

小数の倍3

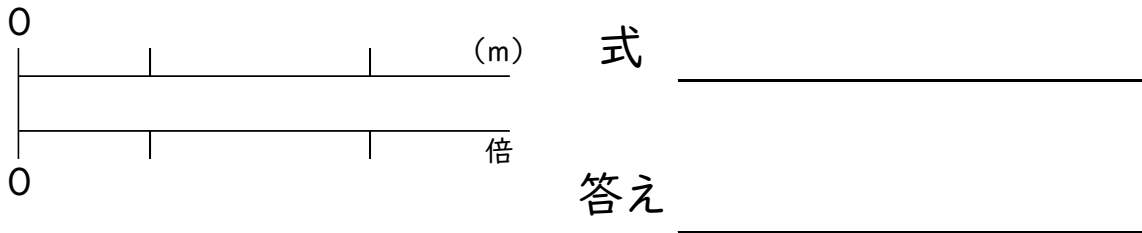
(倍を求める問題)

年 組 名前()

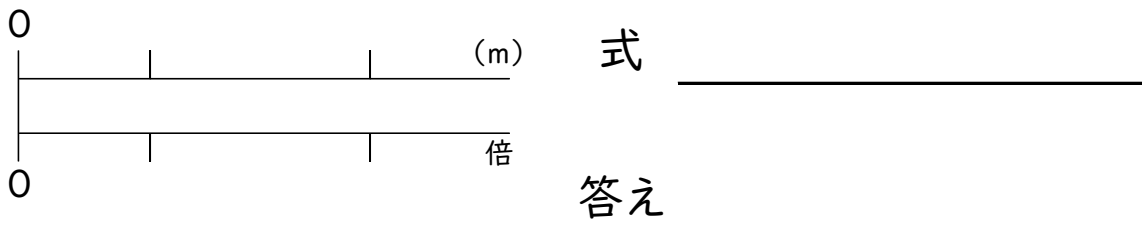
計算スペース

- (1) 赤のリボンは4m、青のリボンは10mです。赤のリボンの長さをもとにすると、青のリボンの長さは何倍ですか。また、青のリボンの長さをもとにすると、赤のリボンの長さは何倍ですか。

☆赤のリボンの長さをもとにしたときの青のリボンの長さ



☆青のリボンの長さをもとにしたときの赤のリボンの長さ



- (2) 緑のリボンは20m、黄のリボンは16mです。緑のリボンの長さをもとにすると、黄のリボンの長さは何倍ですか。また、黄のリボンの長さをもとにすると、緑のリボンの長さは何倍ですか。

☆緑のリボンの長さをもとにしたときの黄のリボンの長さ

式 _____

答え _____

☆黄のリボンの長さをもとにしたときの緑のリボンの長さ

式 _____

答え _____

小数の倍3

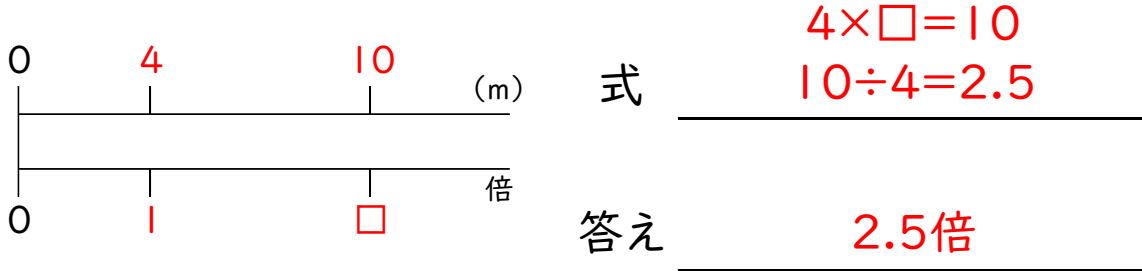
(倍を求める問題)

年 組 名前 ()

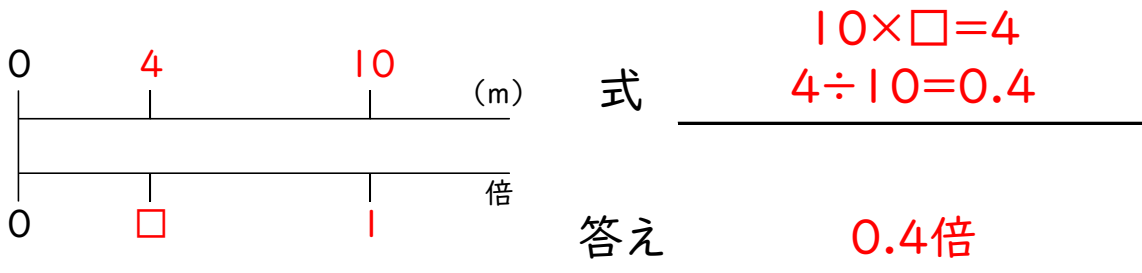
- (1) 赤のリボンは4m、青のリボンは10mです。赤のリボンの長さをもとにすると、青のリボンの長さは何倍ですか。また、青のリボンの長さをもとにすると、赤のリボンの長さは何倍ですか。

計算スペース

☆赤のリボンの長さをもとにしたときの青のリボンの長さ

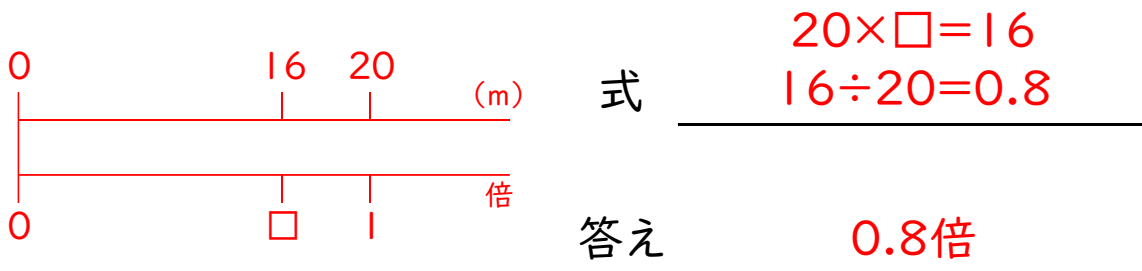


☆青のリボンの長さをもとにしたときの赤のリボンの長さ



- (2) 緑のリボンは20m、黄のリボンは16mです。緑のリボンの長さをもとにすると、黄のリボンの長さは何倍ですか。また、黄のリボンの長さをもとにすると、緑のリボンの長さは何倍ですか。

☆緑のリボンの長さをもとにしたときの黄のリボンの長さ



☆黄のリボンの長さをもとにしたときの緑のリボンの長さ

