


平均6

年 組 名前 ()

次の平均を求めましょう。

計算スペース

- (1) 
69g 68g 61g 63g 59g

式

答え

- (2) 
48g 55g 66g 67g

式

答え

- (3) 
98g 81g 96g 92g 91g 89g 83g 93g 78g

式

答え

- (4) 
19cm 20cm 22cm 18cm 22cm 24cm 19cm 20cm

式

答え

- (5) 
34cm 36cm 35cm 33cm 29cm 34cm

式

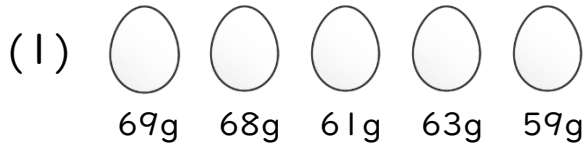
答え

平均6

年 組 名前 ()

次の平均を求めましょう。

計算スペース



式 $(69+68+61+63+59)\div 5=64$

答え 64g



式 $(48+55+66+67)\div 4=59$

答え 59g



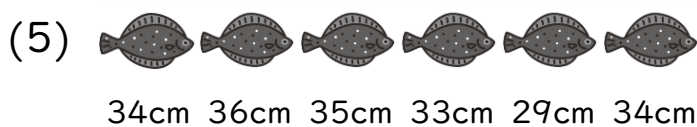
式 $(98+81+96+92+91+89+83+93+78)\div 9=89$

答え 89g



式 $(19+20+22+18+22+24+19+20)\div 8=20.5$

答え 20.5cm



式 $(34+36+35+33+29+34)\div 6=33.5$

答え 33.5cm