

平均5

年 組 名前 ()

次の平均を求めましょう。

計算スペース

- (1) 
65g 61g 62g 59g 63g

式

答え

- (2) 
52g 65g 67g 62g 62g 53g 59g

式

答え

- (3) 
89g 93g 93g 82g 97g 80g 96g 90g


式

答え

- (4) 
18cm 17cm 19cm 20cm

式

答え

- (5) 
36cm 38cm 36cm 33cm 34cm 30cm

式

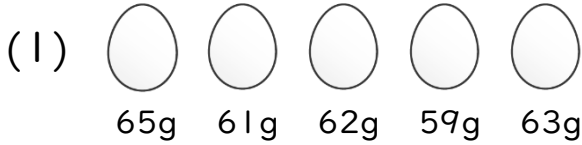
答え

平均5

年 組 名前()

次の平均を求めましょう。

計算スペース



式 $(65+61+62+59+63)\div 5=62$

答え 62g



式 $(52+65+67+62+62+53+59)\div 7=60$

答え 60g



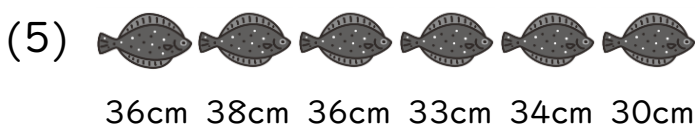
式 $(89+93+93+82+97+80+96+90)\div 8=90$

答え 90g



式 $(18+17+19+20)\div 4=18.5$

答え 18.5cm



式 $(36+38+36+33+34+30)\div 6=34.5$

答え 34.5cm