


# 平均4

年 組 名前( )

次の平均を求めましょう。

計算スペース

- (1)   
65g 64g 63g 69g 69g 62g 63g

式

答え

- (2)   
50g 62g 61g 62g 56g 50g 49g 57g 48g

式

答え

- (3)   
86g 98g 83g 86g 87g


式

答え

- (4)   
20cm 24cm 20cm 18cm 17cm 24cm

式

答え

- (5)   
35cm 33cm 29cm 30cm 37cm 34cm 32cm 38cm

式

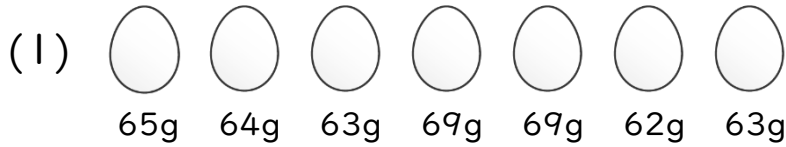
答え

# 平均4

年 組 名前( )

次の平均を求めましょう。

計算スペース



式  $(65+64+63+69+69+62+63)\div 7=65$

答え 65g



式  $(50+62+61+62+56+50+49+57+48)\div 9=55$

答え 55g



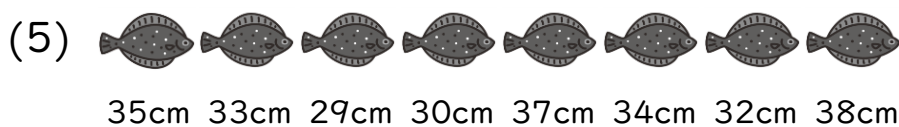
式  $(86+98+83+86+87)\div 5=88$

答え 88g



式  $(20+24+20+18+17+24)\div 6=20.5$

答え 20.5cm



式  $(35+33+29+30+37+34+32+38)\div 8=33.5$

答え 33.5cm