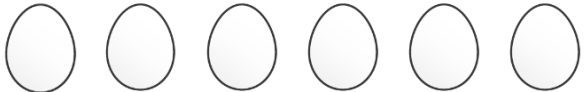


平均3

年 組 名前 ()

次の平均を求めましょう。

計算スペース

- (1) 
68g 58g 62g 68g 59g 63g

式

答え

- (2) 
59g 54g 52g 56g 59g

式

答え

- (3) 
77g 79g 90g 78g 85g 81g 84g


式

答え

- (4) 
19cm 22cm 17cm 16cm

式

答え

- (5) 
34cm 33cm 26cm 25cm 27cm 38cm

式

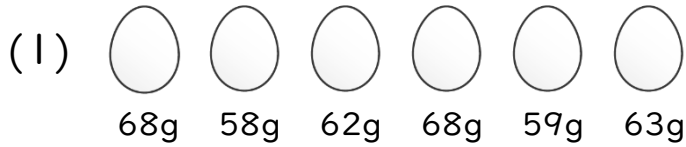
答え

平均3

年 組 名前 ()

次の平均を求めましょう。

計算スペース



式 $(68+58+62+68+59+63)\div 6=63$

答え 63g



式 $(59+54+52+56+59)\div 5=56$

答え 56g



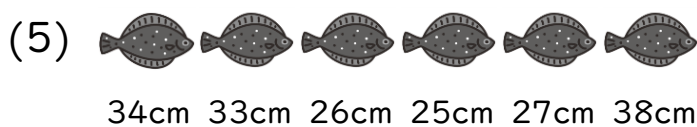
式 $(77+79+90+78+85+81+84)\div 7=82$

答え 82g



式 $(19+22+17+16)\div 4=18.5$

答え 18.5cm



式 $(34+33+26+25+27+38)\div 6=30.5$

答え 30.5cm