

# 平均2

年 組 名前 ( )

次の平均を求めましょう。

計算スペース

- (1)   
67g 62g 59g 63g 68g 65g

式

---

答え

---

- (2)   
48g 54g 48g 55g 50g

式

---

答え

---

- (3)   
77g 84g 80g 84g 94g 93g 83g

式

---

答え

---


- (4)   
24cm 22cm 18cm 18cm

式

---

答え

---

- (5)   
27cm 35cm 28cm 27cm 24cm 37cm 34cm 24cm

式

---

答え

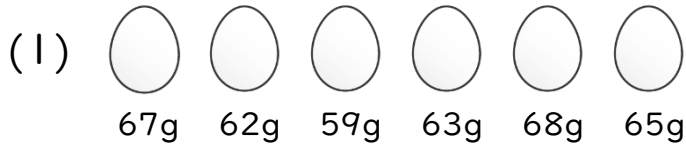
---

# 平均2

年 組 名前( )

次の平均を求めましょう。

計算スペース



式  $(67+62+59+63+68+65)\div 6=64$

答え 64g



式  $(48+54+48+55+50)\div 5=51$

答え 51g



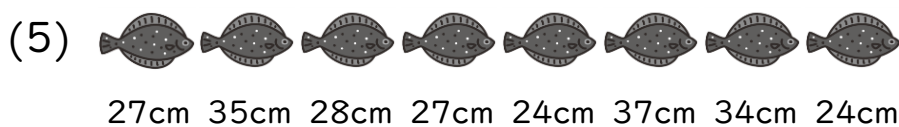
式  $(77+84+80+84+94+93+83)\div 7=85$

答え 85g



式  $(24+22+18+18)\div 4=20.5$

答え 20.5cm



式  $(27+35+28+27+24+37+34+24)\div 8=29.5$

答え 29.5cm