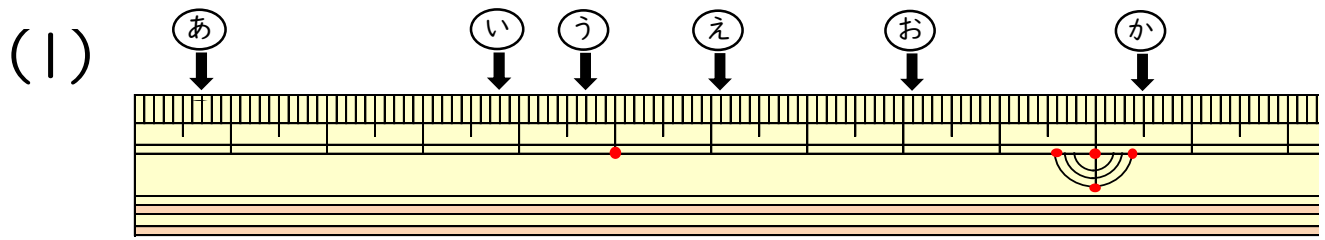


小数の表し方6

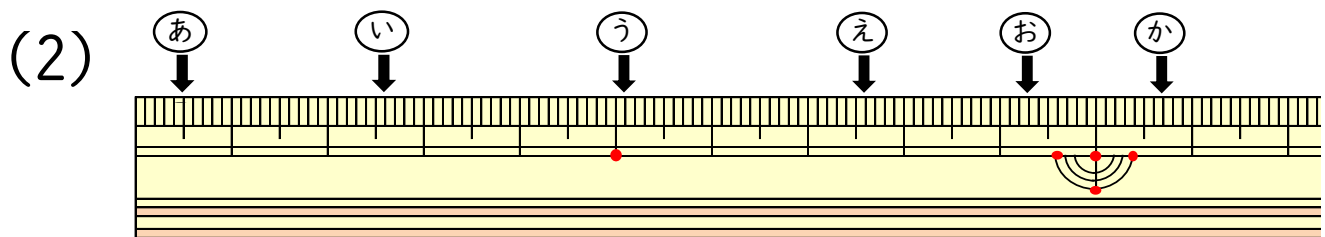
(ものさしの長さ)

年 組 名前 ()

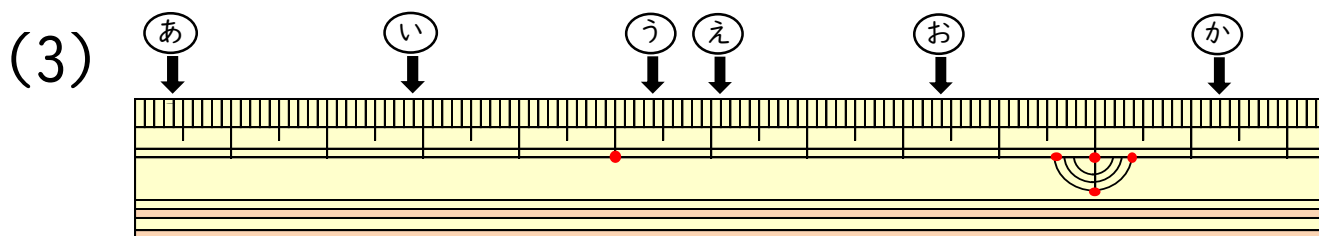
ものさしのやじるしの長さは,それぞれ何cmですか。



あ (cm) い (cm)
う (cm) え (cm)
お (cm) か (cm)



あ (cm) い (cm)
う (cm) え (cm)
お (cm) か (cm)



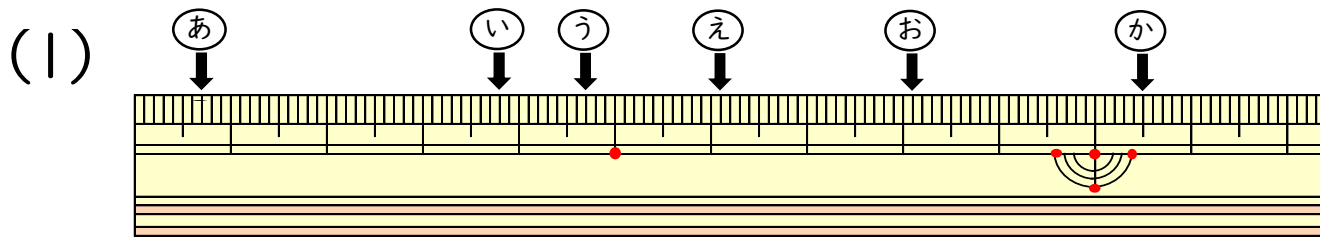
あ (cm) い (cm)
う (cm) え (cm)
お (cm) か (cm)

小数の表し方6

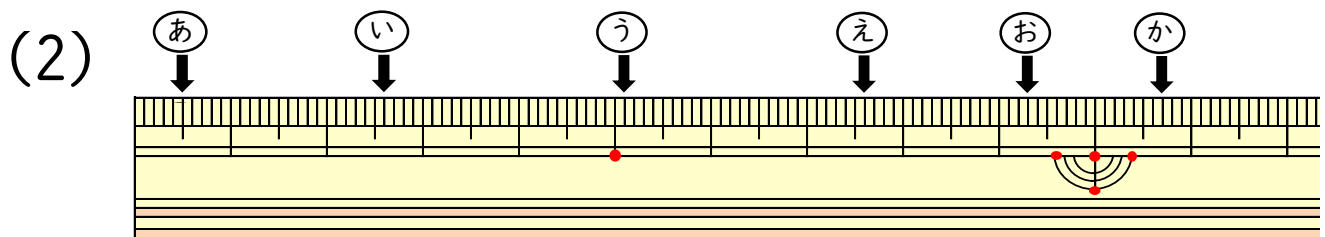
(ものさしの長さ)

年 組 名前 ()

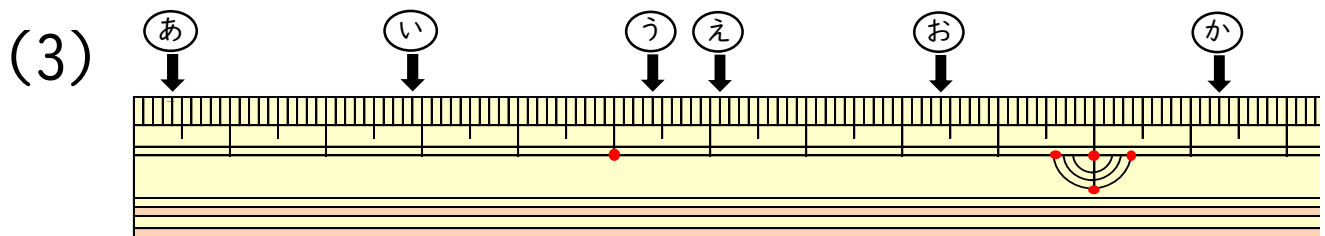
ものさしのやじるしの長さは,それぞれ何cmですか。



あ (0.7 cm) い (3.8 cm)
う (4.7 cm) え (6.1 cm)
お (8.1 cm) か (10.5 cm)



あ (0.5 cm) い (2.6 cm)
う (5.1 cm) え (7.6 cm)
お (9.3 cm) か (10.7 cm)



あ (0.4 cm) い (2.9 cm)
う (5.4 cm) え (6.1 cm)
お (8.4 cm) か (11.3 cm)