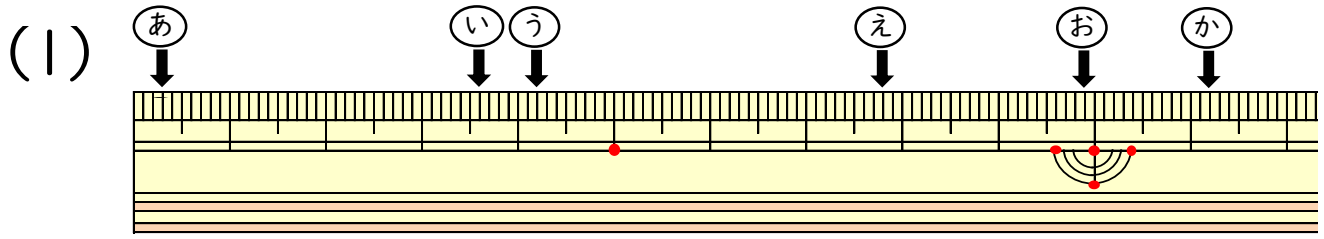


# 小数の表し方5

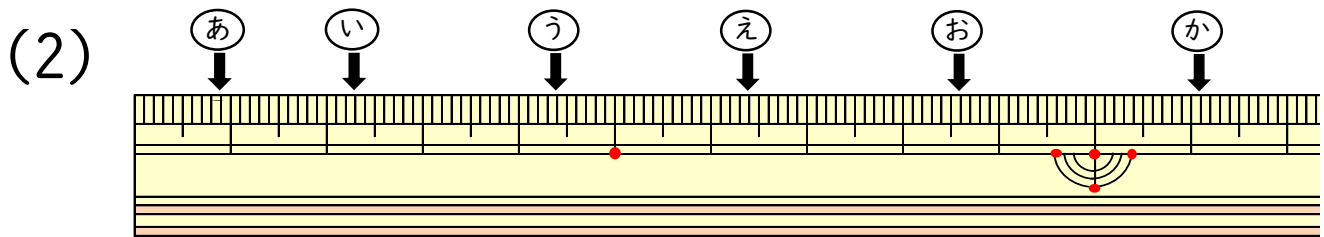
(ものさしの長さ)

年 組 名前 ( )

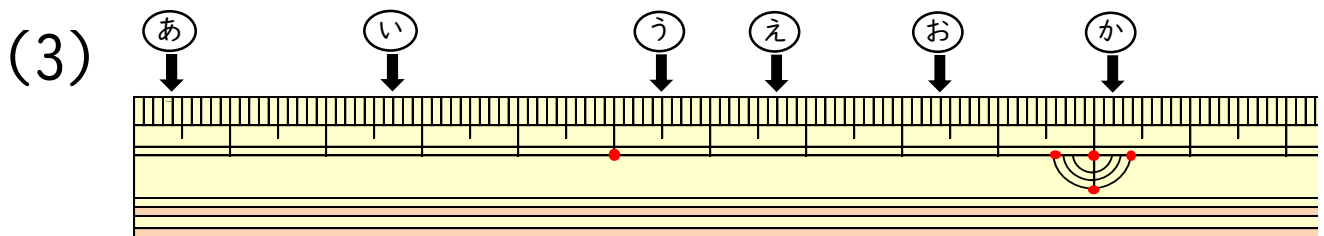
ものさしのやじるしの長さは,それぞれ何cmですか。



あ (                    cm )    い (                    cm )  
う (                    cm )    え (                    cm )  
お (                    cm )    か (                    cm )



あ (                    cm )    い (                    cm )  
う (                    cm )    え (                    cm )  
お (                    cm )    か (                    cm )



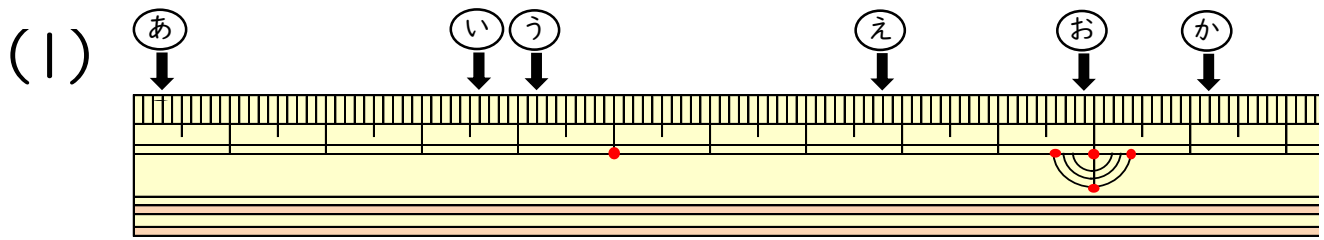
あ (                    cm )    い (                    cm )  
う (                    cm )    え (                    cm )  
お (                    cm )    か (                    cm )

# 小数の表し方5

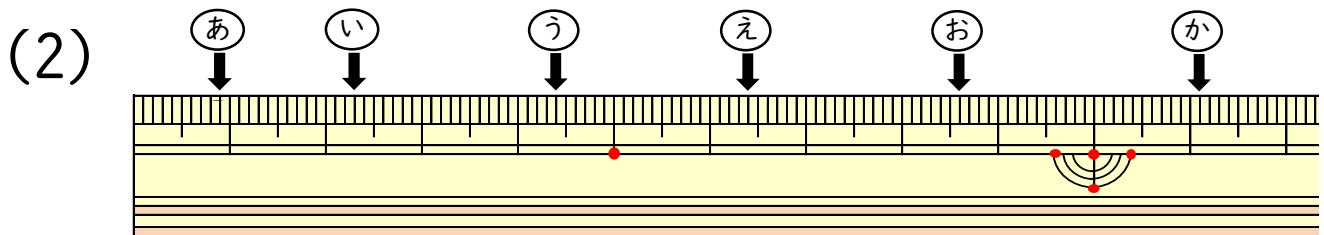
(ものさしの長さ)

年 組 名前 ( )

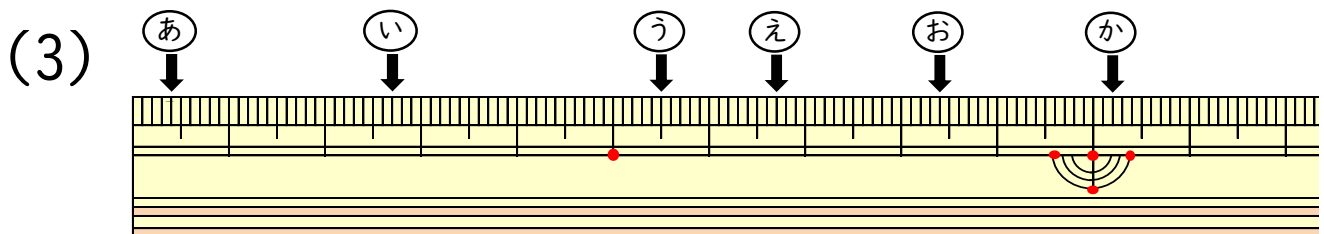
ものさしのやじるしの長さは、それぞれ何cmですか。



あ ( 0.3 cm ) い ( 3.6 cm )  
う ( 4.2 cm ) え ( 7.8 cm )  
お ( 9.9 cm ) か ( 11.2 cm )



あ ( 0.9 cm ) い ( 2.3 cm )  
う ( 4.4 cm ) え ( 6.4 cm )  
お ( 8.6 cm ) か ( 11.1 cm )



あ ( 0.4 cm ) い ( 2.7 cm )  
う ( 5.5 cm ) え ( 6.7 cm )  
お ( 8.4 cm ) か ( 10.2 cm )