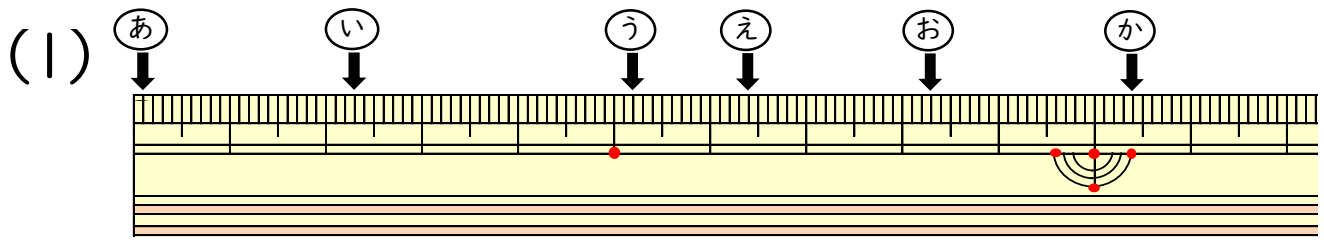


# 小数の表し方4

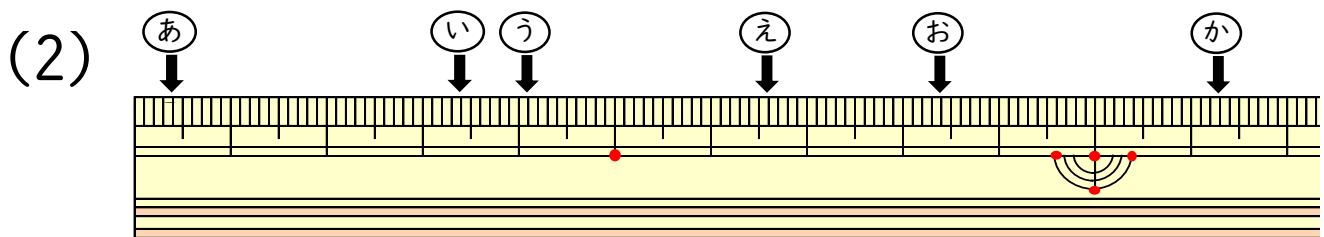
(ものさしの長さ)

年 組 名前 ( )

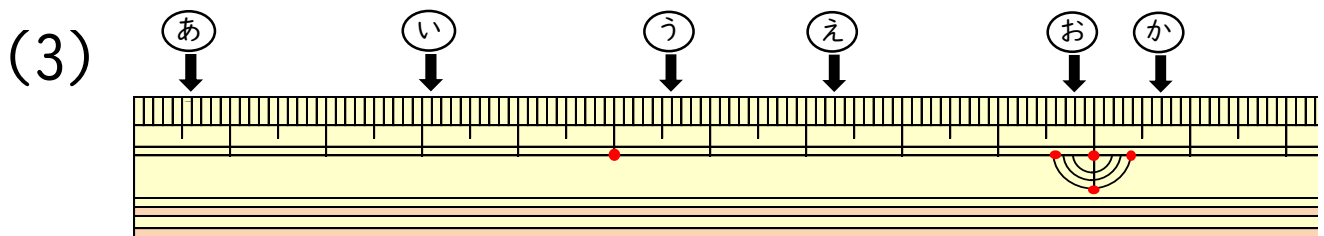
ものさしのやじるしの長さは、それぞれ何cmですか。



あ (                      cm )    い (                      cm )  
う (                      cm )    え (                      cm )  
お (                      cm )    か (                      cm )



あ (                      cm )    い (                      cm )  
う (                      cm )    え (                      cm )  
お (                      cm )    か (                      cm )



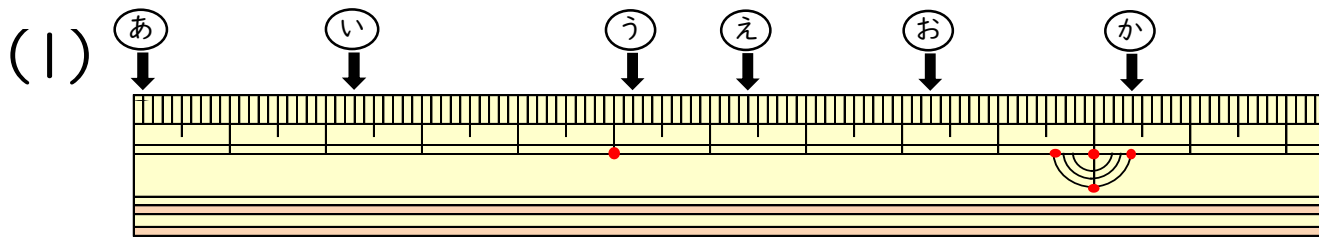
あ (                      cm )    い (                      cm )  
う (                      cm )    え (                      cm )  
お (                      cm )    か (                      cm )

# 小数の表し方4

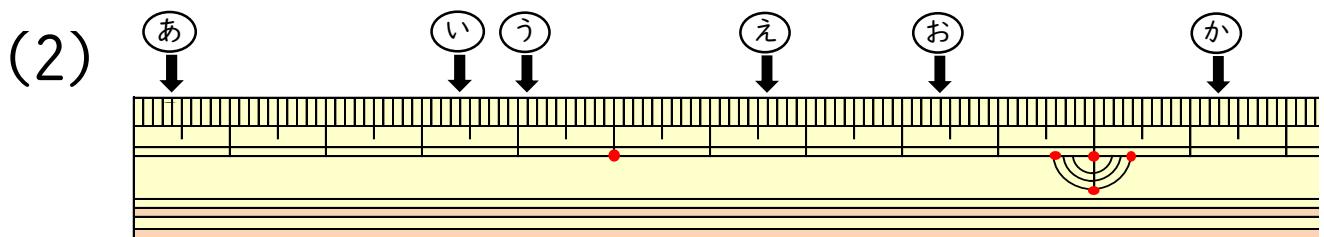
(ものさしの長さ)

年 組 名前 ( )

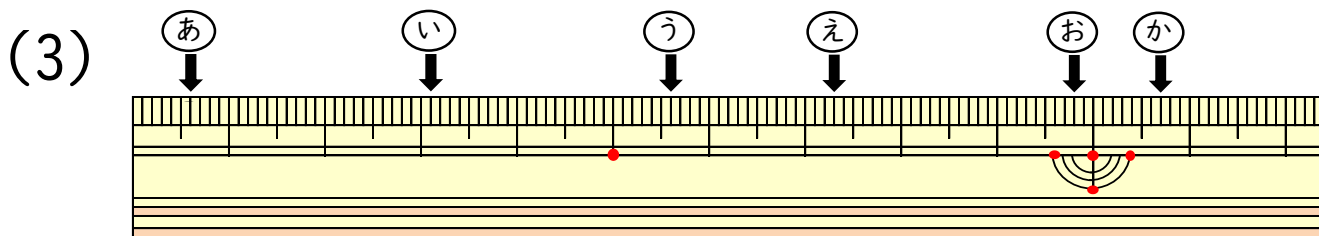
ものさしのやじるしの長さは、それぞれ何cmですか。



あ ( 0.1 cm ) い ( 2.3 cm )  
う ( 5.2 cm ) え ( 6.4 cm )  
お ( 8.3 cm ) か ( 10.4 cm )



あ ( 0.4 cm ) い ( 3.4 cm )  
う ( 4.1 cm ) え ( 6.6 cm )  
お ( 8.4 cm ) か ( 11.3 cm )



あ ( 0.6 cm ) い ( 3.1 cm )  
う ( 5.6 cm ) え ( 7.3 cm )  
お ( 9.8 cm ) か ( 10.7 cm )