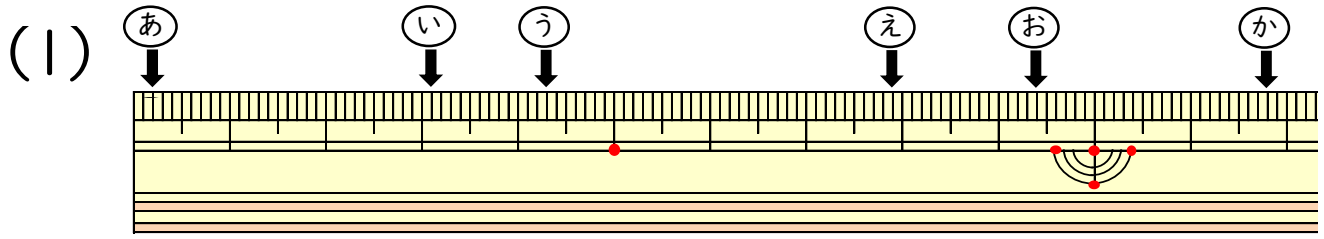


小数の表し方3

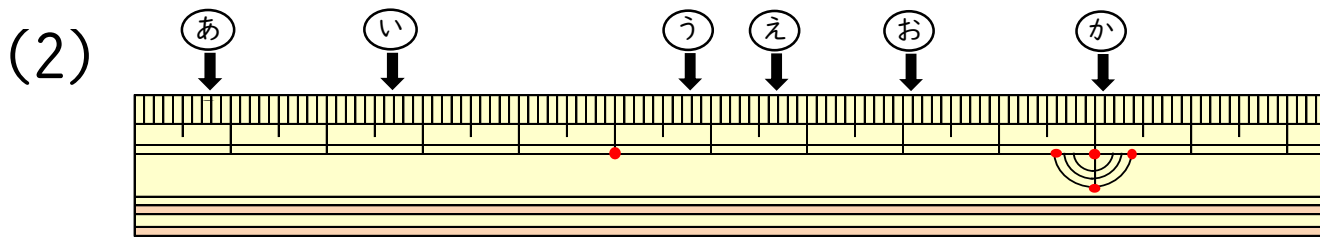
(ものさしの長さ)

年 組 名前 ()

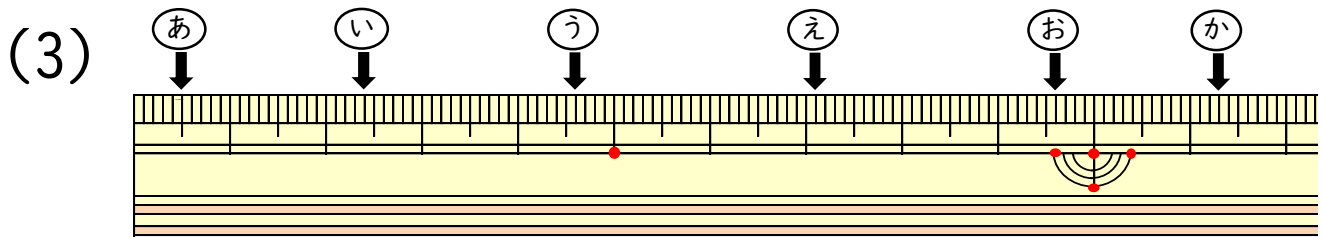
ものさしのやじるしの長さは,それぞれ何cmですか。



あ (cm) い (cm)
う (cm) え (cm)
お (cm) か (cm)



あ (cm) い (cm)
う (cm) え (cm)
お (cm) か (cm)



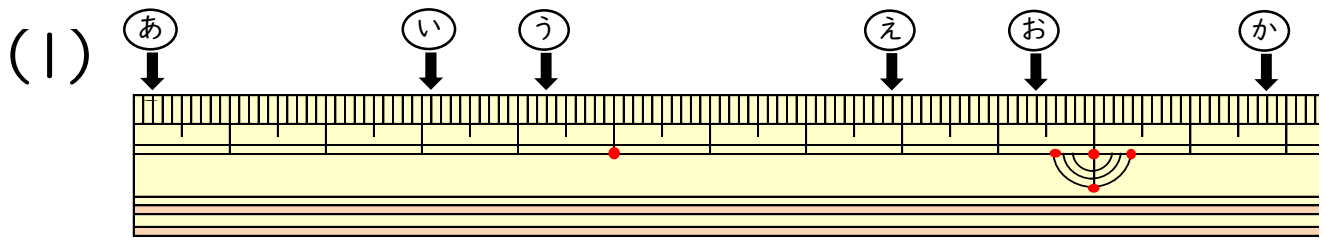
あ (cm) い (cm)
う (cm) え (cm)
お (cm) か (cm)

小数の表し方3

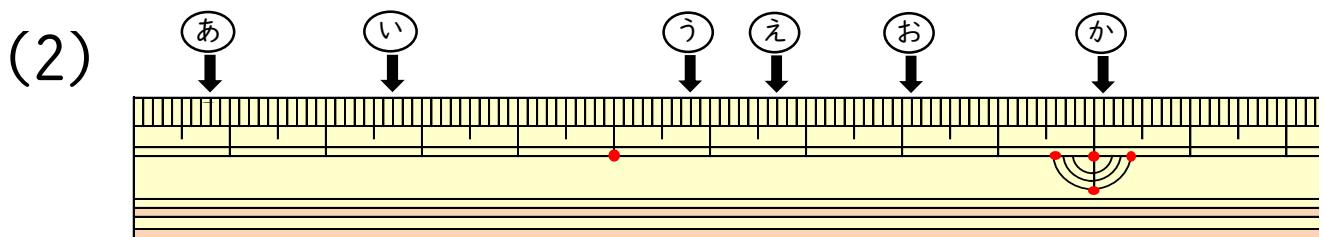
(ものさしの長さ)

年 組 名前 ()

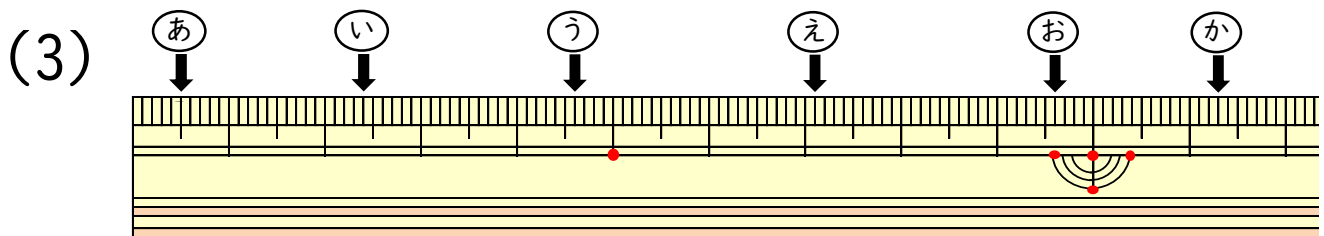
ものさしのやじるしの長さは、それぞれ何cmですか。



あ (0.2 cm) い (3.1 cm)
う (4.3 cm) え (7.9 cm)
お (9.4 cm) か (11.8 cm)



あ (0.8 cm) い (2.7 cm)
う (5.8 cm) え (6.7 cm)
お (8.1 cm) か (10.1 cm)



あ (0.5 cm) い (2.4 cm)
う (4.6 cm) え (7.1 cm)
お (9.6 cm) か (11.3 cm)