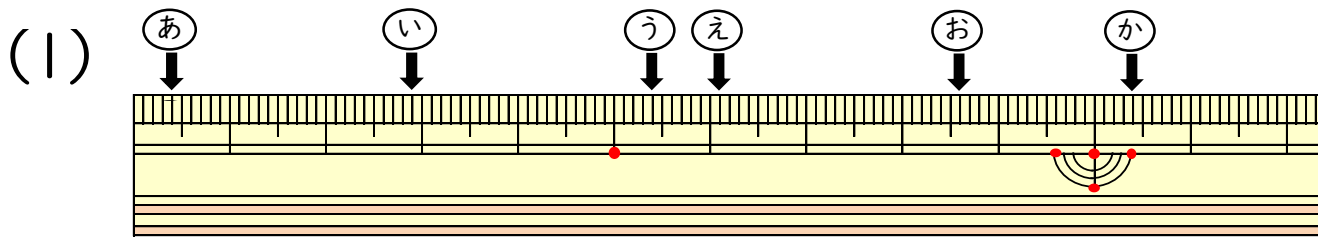


# 小数の表し方 I

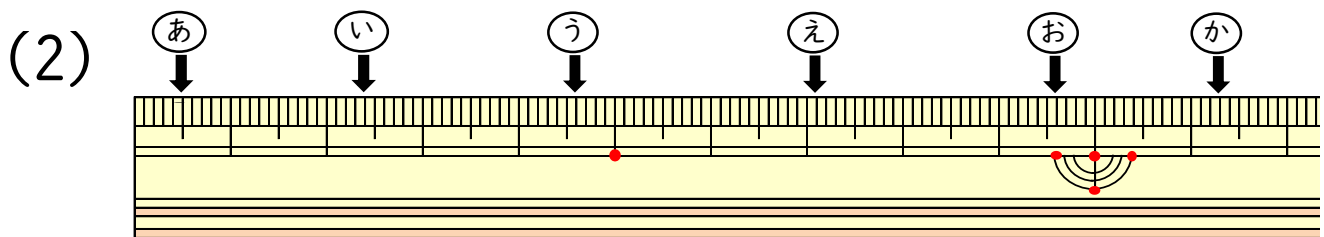
(ものさしの長さ)

年 組 名前 ( )

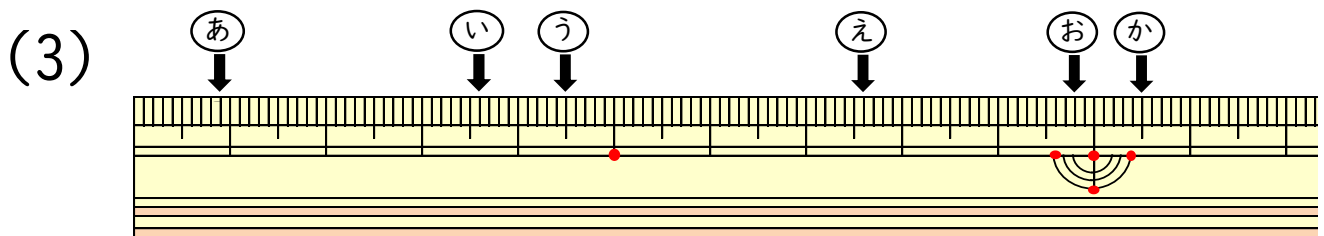
ものさしのやじるしの長さは, それぞれ何cmですか。



あ (                    cm )    い (                    cm )  
う (                    cm )    え (                    cm )  
お (                    cm )    か (                    cm )



あ (                    cm )    い (                    cm )  
う (                    cm )    え (                    cm )  
お (                    cm )    か (                    cm )



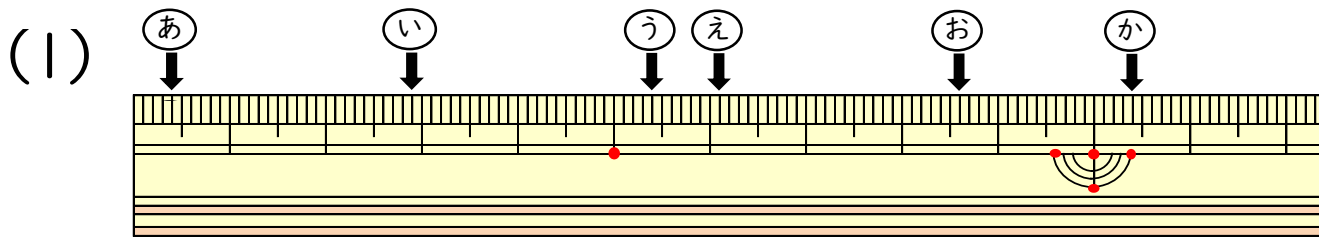
あ (                    cm )    い (                    cm )  
う (                    cm )    え (                    cm )  
お (                    cm )    か (                    cm )

# 小数の表し方 I

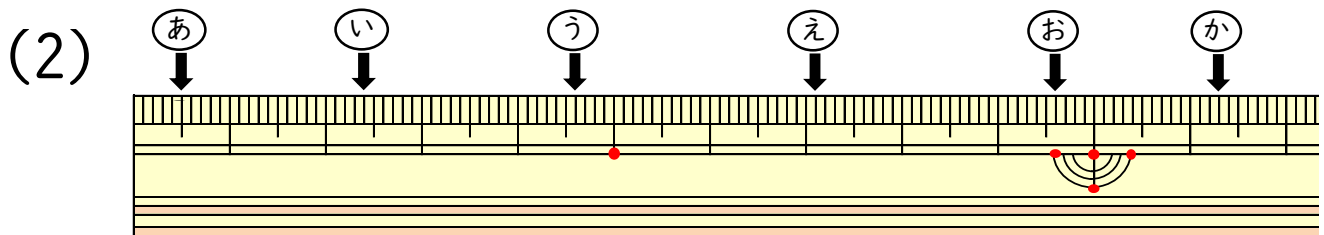
(ものさしの長さ)

年 組 名前 ( )

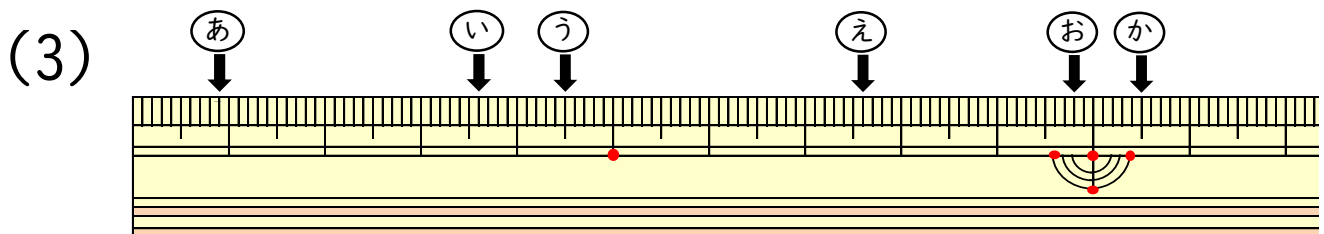
ものさしのやじるしの長さは、それぞれ何cmですか。



あ ( 0.4 cm ) い ( 2.9 cm )  
う ( 5.4 cm ) え ( 6.1 cm )  
お ( 8.6 cm ) か ( 10.4 cm )



あ ( 0.5 cm ) い ( 2.4 cm )  
う ( 4.6 cm ) え ( 7.1 cm )  
お ( 9.6 cm ) か ( 11.3 cm )



あ ( 0.9 cm ) い ( 3.6 cm )  
う ( 4.5 cm ) え ( 7.6 cm )  
お ( 9.8 cm ) か ( 10.5 cm )