

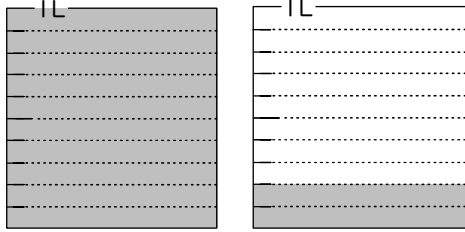
# 小数の表し方5

(水のかさ)

年 組 名前 ( )


水のかさはそれぞれ何Lですか。また、0.1Lの何こ分ですか。

(1)



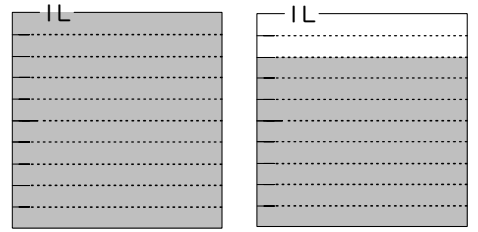
(            L )  
(            こ分 )

(2)



(            L )  
(            こ分 )

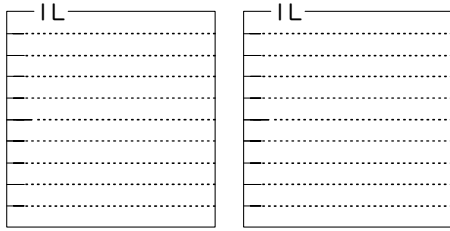
(3)



(            L )  
(            こ分 )


水のかさだけ色をぬりましょう。

(1)



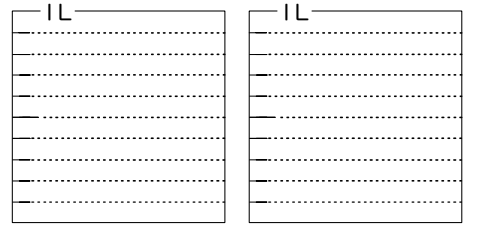
1.3L

(2)



0.9L

(3)



1.6L

□にあてはまる数を書きましょう。

(1) 2 dL =  L

(4) 9 dL =  L

(2) 7 L 3 dL =  L

(5) 1 L 9 dL =  L

(3) 3.8 L =  L  dL

(6) 6.5 L =  L  dL

次の数を、整数と小数に分けましょう。

0.8    74    1    18    5.5    19    0.1    1.1

整数

小数

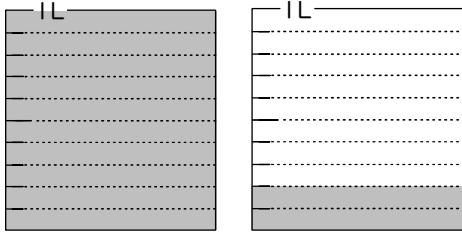
# 小数の表し方5

(水のかさ)

年 組 名前( )


水のかさはそれぞれ何Lですか。また、0.1Lの何こ分ですか。

(1)



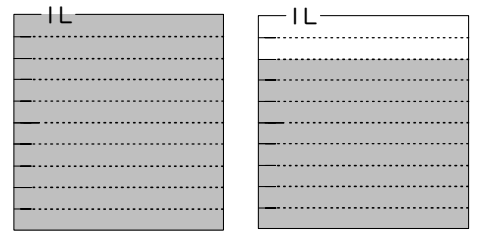
( 1.2 L )  
( 12 こ分 )

(2)



( 0.7 L )  
( 7 こ分 )

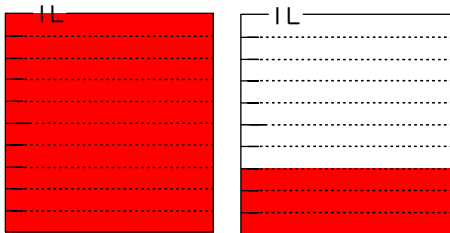
(3)



( 1.8 L )  
( 18 こ分 )


水のかさだけ色をぬりましょう。

(1)



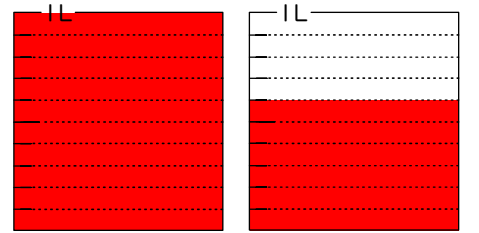
1.3L

(2)



0.9L

(3)



1.6L

□にあてはまる数を書きましょう。

(1) 2 dL =  L

(4) 9 dL =  L

(2) 7 L 3 dL =  L

(5) 1 L 9 dL =  L

(3) 3.8 L =  L  dL

(6) 6.5 L =  L  dL

次の数を、整数と小数に分けましょう。

0.8    74    1    18    5.5    19    0.1    1.1

整数    74    1    18    19

小数    0.8    5.5    0.1    1.1