

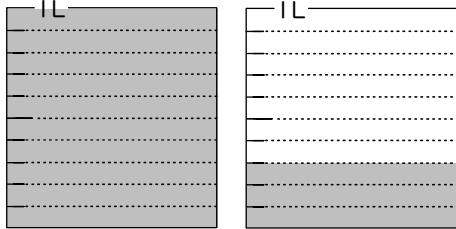
# 小数の表し方3

(水のかさ)

年 組 名前 ( )


水のかさはそれぞれ何Lですか。また、0.1Lの何こ分ですか。

(1)



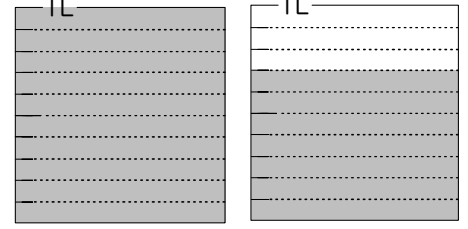
(            L )  
(            こ分 )

(2)



(            L )  
(            こ分 )

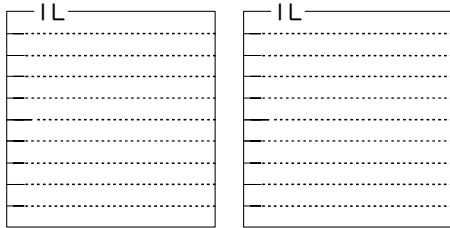
(3)



(            L )  
(            こ分 )

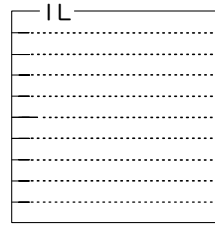
水のかさだけ色をぬりましょう。

(1)



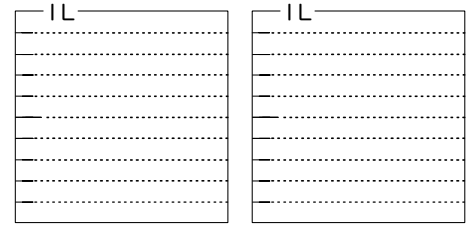
1.9L

(2)



0.9L

(3)



1.5L

□にあてはまる数を書きましょう。

(1) 4 dL =  L

(4) 8 dL =  L

(2) 3 L 9 dL =  L

(5) 5 L 6 dL =  L

(3) 4.3 L =  L  dL

(6) 7.4 L =  L  dL

次の数を、整数と小数に分けましょう。

6.5      9      71      2.5      0.6      69      0.7      11

整数

---

小数

---

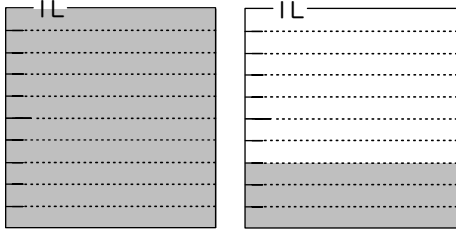
# 小数の表し方3

(水のかさ)

年 組 名前( )


水のかさはそれぞれ何Lですか。また、0.1Lの何こ分ですか。

(1)



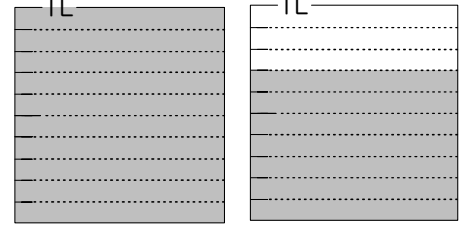
( 1.3 L )  
( 13 こ分 )

(2)



( 0.2 L )  
( 2 こ分 )

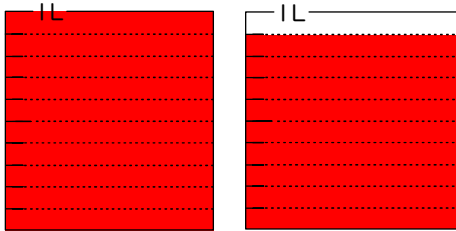
(3)



( 1.7 L )  
( 17 こ分 )


水のかさだけ色をぬりましょう。

(1)



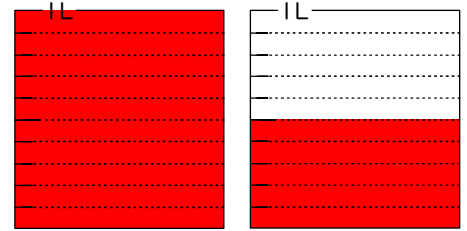
1.9L

(2)



0.9L

(3)



1.5L

□にあてはまる数を書きましょう。

(1) 4 dL =  L

(4) 8 dL =  L

(2) 3 L 9 dL =  L

(5) 5 L 6 dL =  L

(3) 4.3 L =  L  dL

(6) 7.4 L =  L  dL

次の数を、整数と小数に分けましょう。

6.5      9      71      2.5      0.6      69      0.7      11

整数      9      71      69      11

小数      6.5      2.5      0.6      0.7