

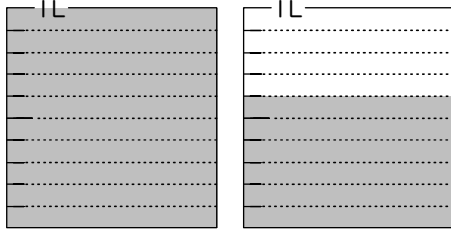
小数の表し方 I

(水のかさ)

年 組 名前 ()


水のかさはそれぞれ何Lですか。また、0.1Lの何こ分ですか。

(1)



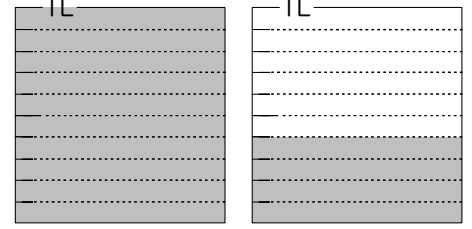
(L)
(こ分)

(2)



(L)
(こ分)

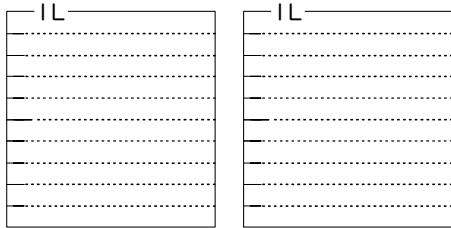
(3)



(L)
(こ分)


水のかさだけ色をぬりましょう。

(1)



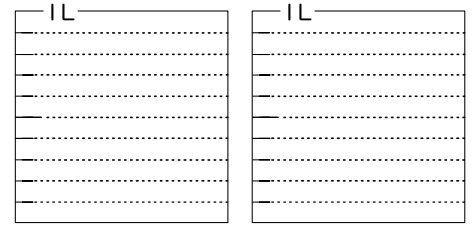
1.8L

(2)



0.9L

(3)



1.1L

□にあてはまる数を書きましょう。

(1) 8 dL = □ L

(4) 3 dL = □ L

(2) 3 L 1 dL = □ L

(5) 4 L 4 dL = □ L

(3) 4.8 L = □ L □ dL

(6) 8.4 L = □ L □ dL

次の数を、整数と小数に分けましょう。

0.2 7 7.8 61 13 38 9 9.9

整数

小数

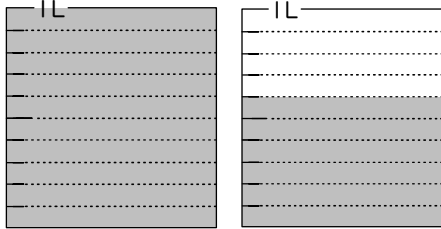
小数の表し方 I

(水のかさ)

年 組 名前 ()


水のかさはそれぞれ何Lですか。また、0.1Lの何こ分ですか。

(1)



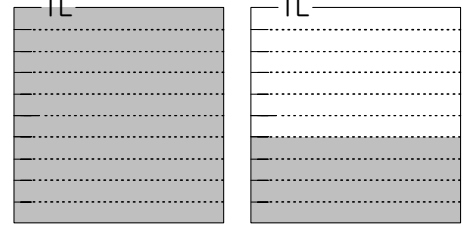
(1.6 L)
(16 こ分)

(2)



(0.2 L)
(2 こ分)

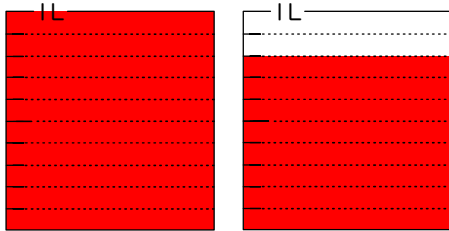
(3)



(1.4 L)
(14 こ分)


水のかさだけ色をぬりましょう。

(1)



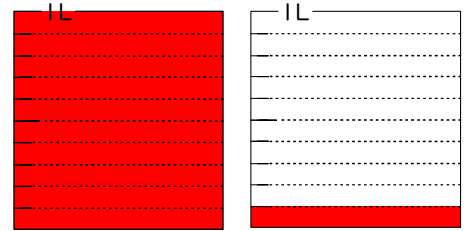
1.8L

(2)



0.9L

(3)



1.1L

□にあてはまる数を書きましょう。

(1) 8 dL = L

(4) 3 dL = L

(2) 3 L 1 dL = L

(5) 4 L 4 dL = L

(3) 4.8 L = L dL

(6) 8.4 L = L dL

次の数を、整数と小数に分けましょう。

0.2 7 7.8 61 13 38 9 9.9

整数 7 61 13 38 9

小数 0.2 7.8 9.9