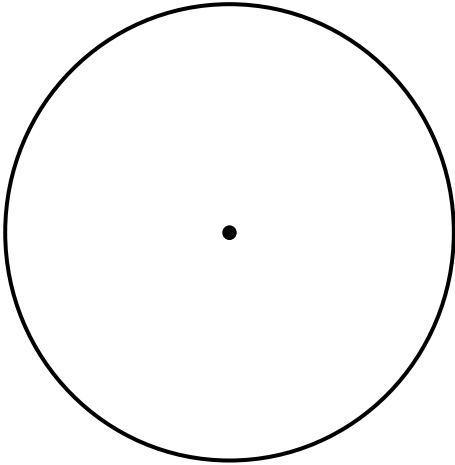


三角形と角3

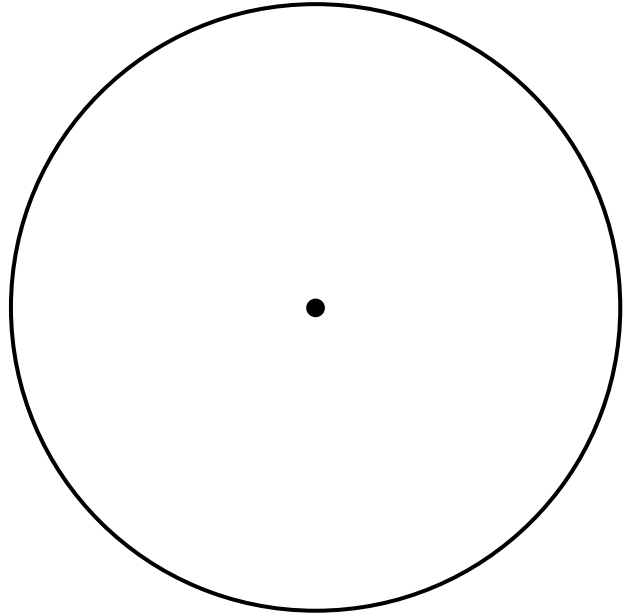
(円を使った二等辺三角形・正三角形の作図)

年 組 名前()

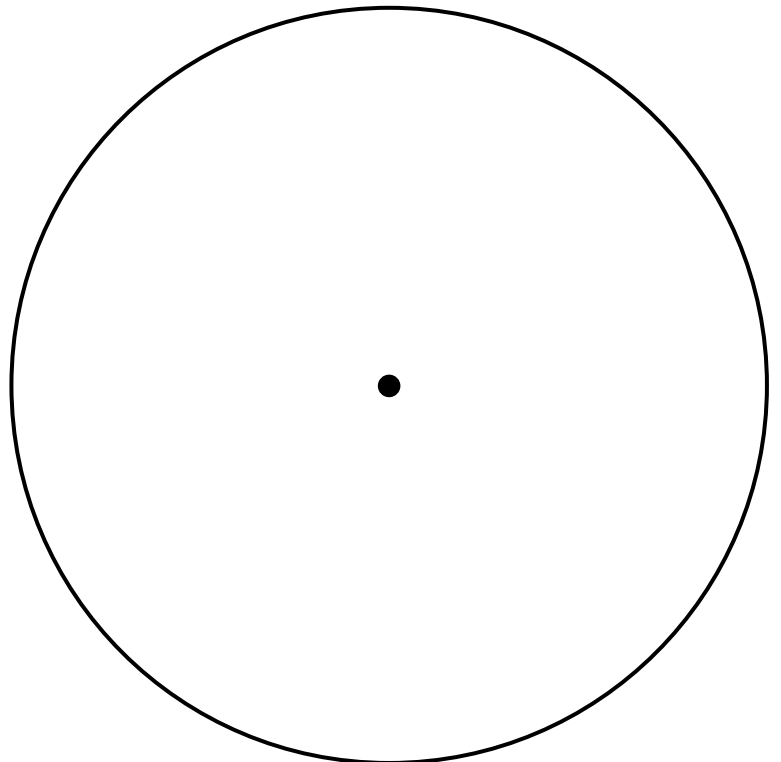
- (1) 半径が3cmの円を使って、
辺の長さが3cm、5cm、3cmの
二等辺三角形をかきましょう。



- (2) 直径が8cmの円を使って、
辺の長さが3cm、4cm、4cmの
二等辺三角形をかきましょう。



- (3) 半径が5cmの円を使って、
一辺の長さが5cmの正三角形
をかきましょう。

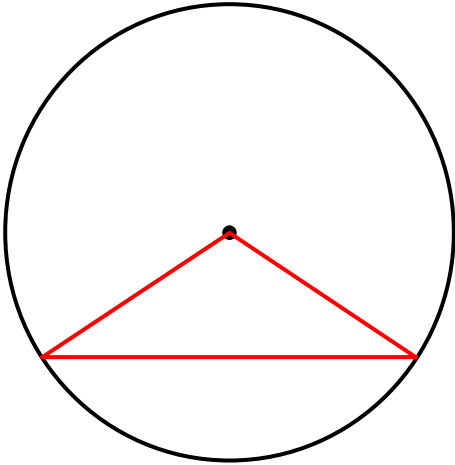


三角形と角3

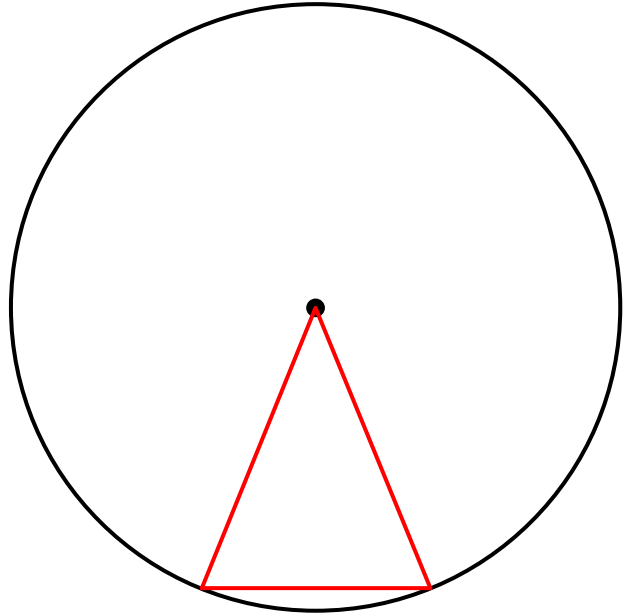
(円を使った二等辺三角形・正三角形の作図)

年 組 名前()

- (1) 半径が3cmの円を使って、
辺の長さが3cm、5cm、3cmの
二等辺三角形をかきましょう。



- (2) 直径が8cmの円を使って、
辺の長さが3cm、4cm、4cmの
二等辺三角形をかきましょう。



- (3) 半径が5cmの円を使って、
一辺の長さが5cmの正三角形
をかきましょう。

