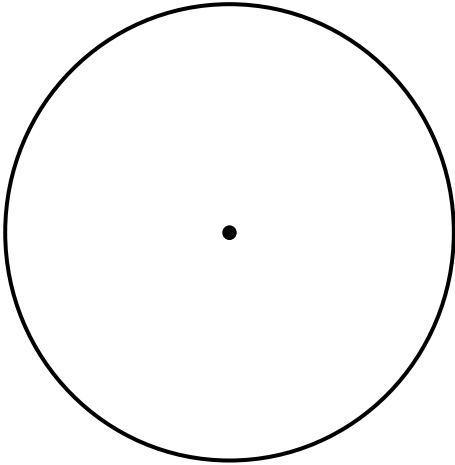


三角形と角2

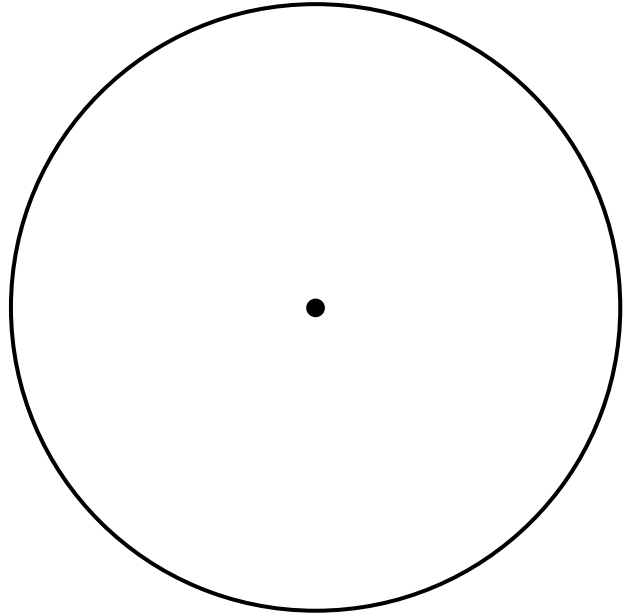
(円を使った二等辺三角形・正三角形の作図)

年 組 名前()

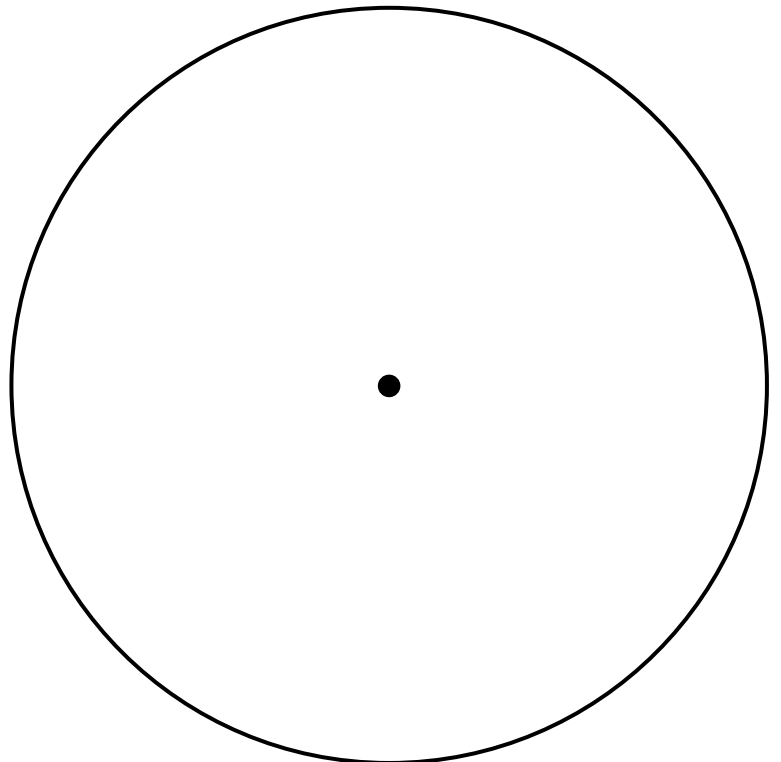
- (1) 半径が3cmの円を使って、
一辺の長さが3cmの正三角形
をかきましょう。



- (2) 半径が4cmの円を使って、
辺の長さが4cm、4cm、6cmの
二等辺三角形をかきましょう。



- (3) 直径が10cmの円を使って、
辺の長さが3cm、5cm、5cmの
二等辺三角形をかきましょう。

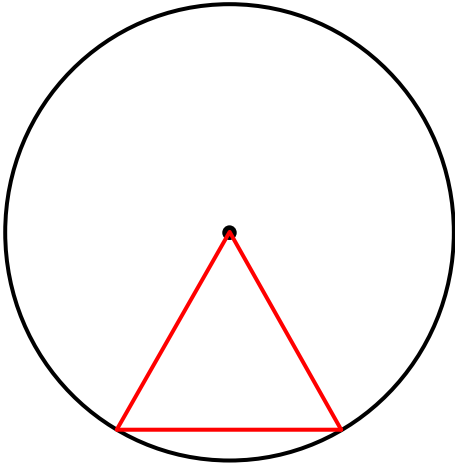


三角形と角2

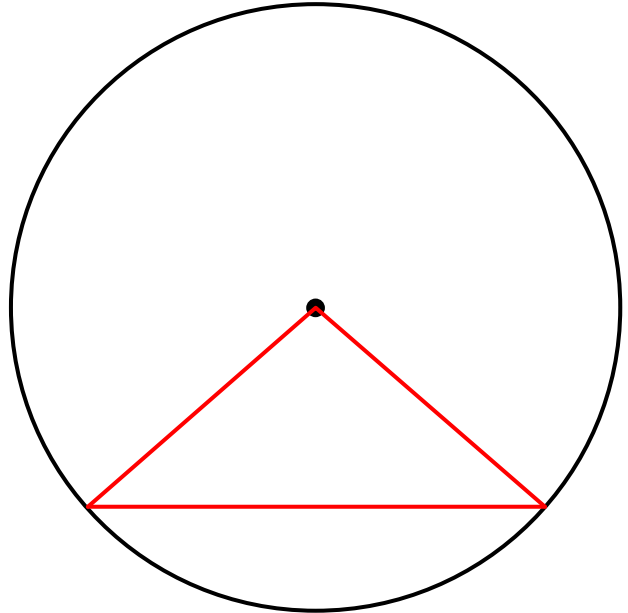
(円を使った二等辺三角形・正三角形の作図)

年 組 名前()

- (1) 半径が3cmの円を使って、
一辺の長さが3cmの正三角形
をかきましょう。



- (2) 半径が4cmの円を使って、
辺の長さが4cm、4cm、6cmの
二等辺三角形をかきましょう。



- (3) 直径が10cmの円を使って、
辺の長さが3cm、5cm、5cmの
二等辺三角形をかきましょう。

