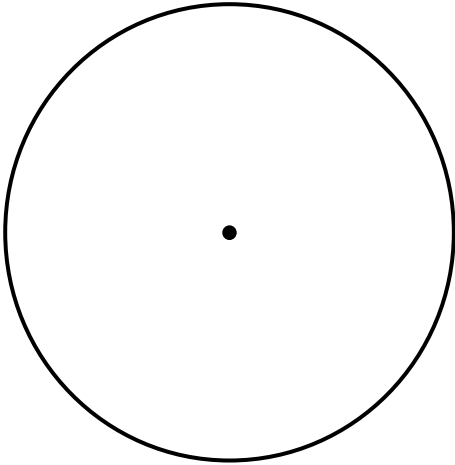


三角形と角 I

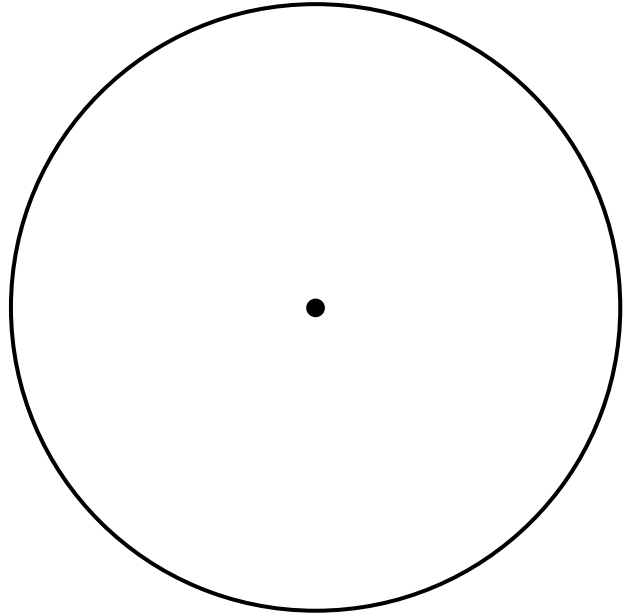
(円を使った二等辺三角形・正三角形の作図)

年 組 名前 ()

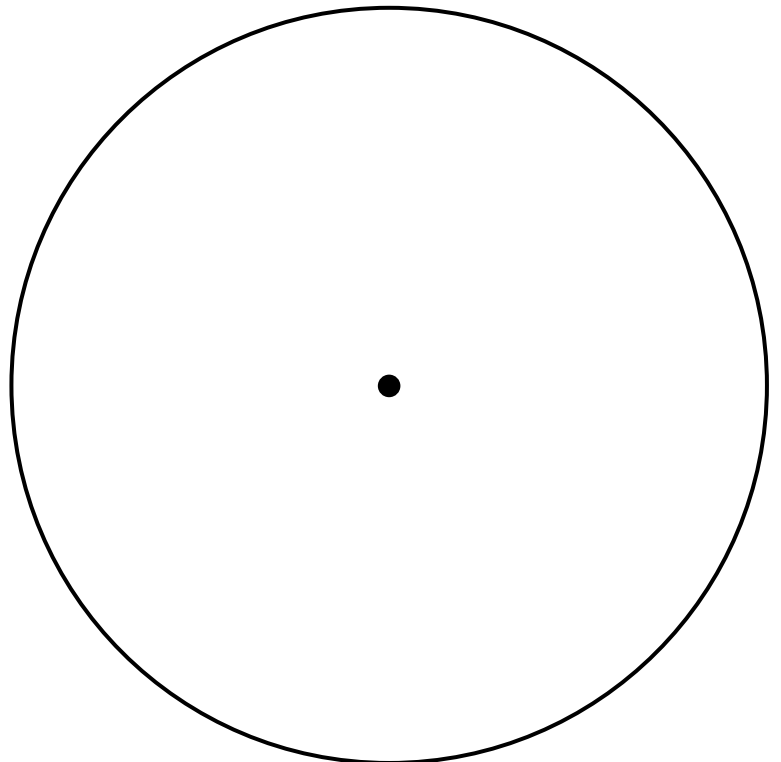
- (1) 半径が3cmの円を使って、
辺の長さが3cm、3cm、4cmの
二等辺三角形をかきましょう。



- (2) 半径が4cmの円を使って、
一辺の長さ4cmの正三角形をか
きましょう。



- (3) 半径が5cmの円を使って、
辺の長さが5cm、7cm、5cmの
二等辺三角形を書きましょう。

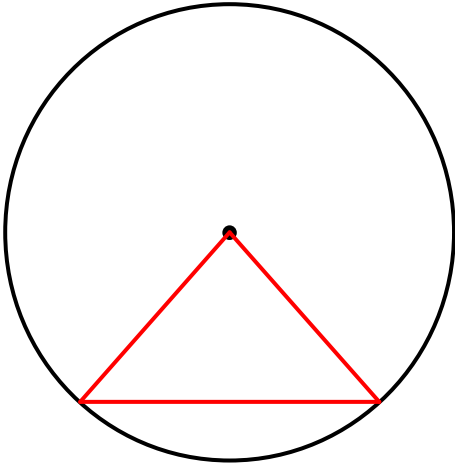


三角形と角 I

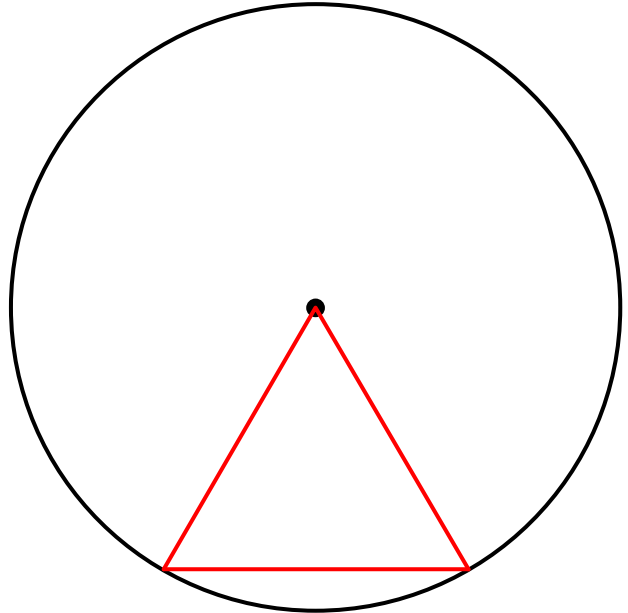
(円を使った二等辺三角形・正三角形の作図)

年 組 名前 ()

- (1) 半径が3cmの円を使って、
辺の長さが3cm、3cm、4cmの
二等辺三角形をかきましょう。



- (2) 半径が4cmの円を使って、
一辺の長さ4cmの正三角形をか
きましょう。



- (3) 半径が5cmの円を使って、
辺の長さが5cm、7cm、5cmの
二等辺三角形を書きましょう。

