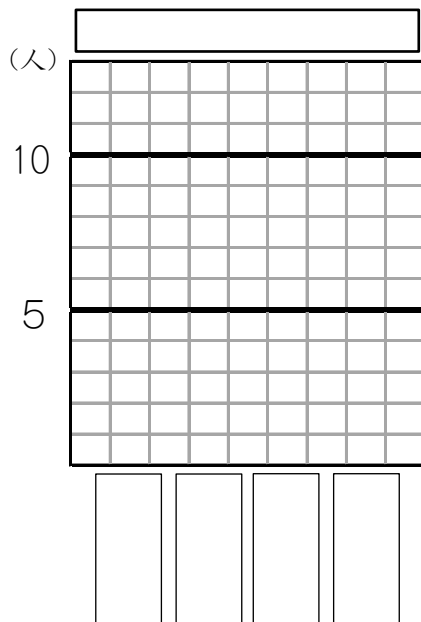


# 表とぼうグラフ17

表を、ぼうグラフに表しましょう。

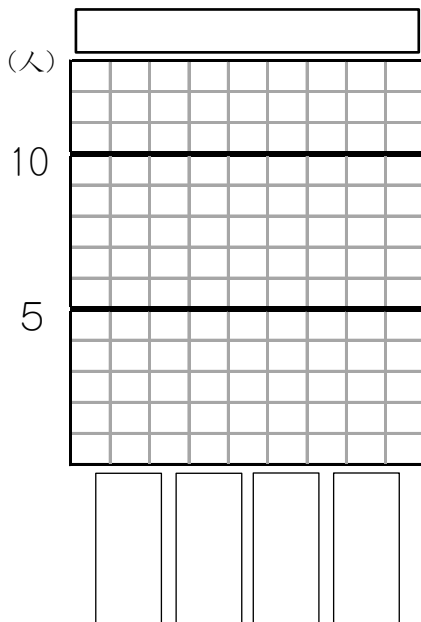
(1) すきな車のしゅるいと人数

しゅるい	人数
パトカー	10
タクシー	7
バス	4
消ぼう車	3
合計	24



(3) すきな教科のしゅるいと人数

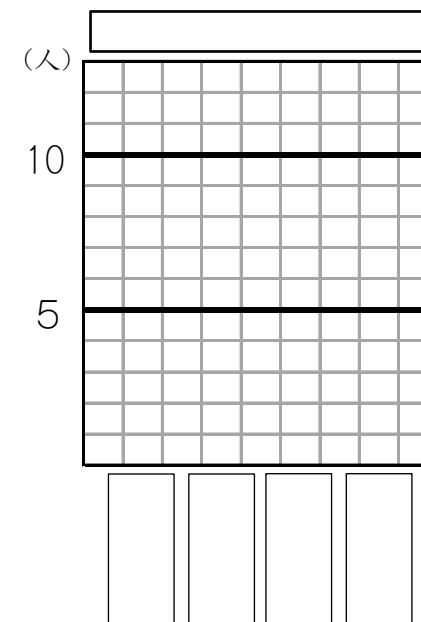
しゅるい	人数
社会	10
理科	8
算数	8
国語	8
合計	34



年 組 名前( )

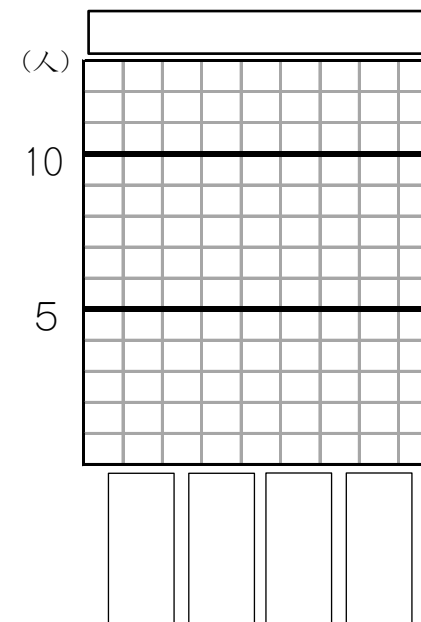
(2) すきなパンのしゅるいと人数

しゅるい	人数
メロンパン	11
クリームパン	8
食パン	3
あんぱん	2
合計	24



(4) すきな本と人数

しゅるい	人数
マンガ	8
物語	6
ざっし	6
図かん	4
合計	24

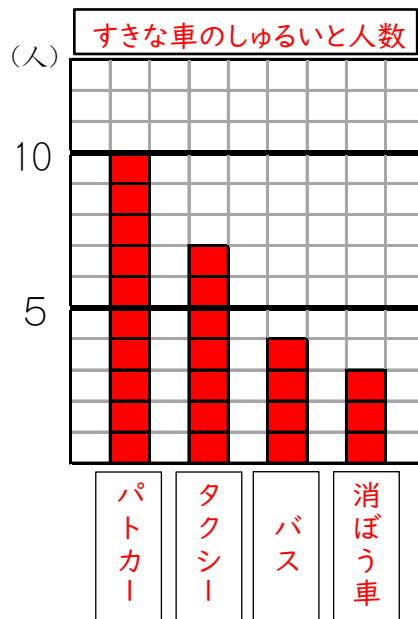


# 表とぼうグラフ17

表を、ぼうグラフに表しましょう。

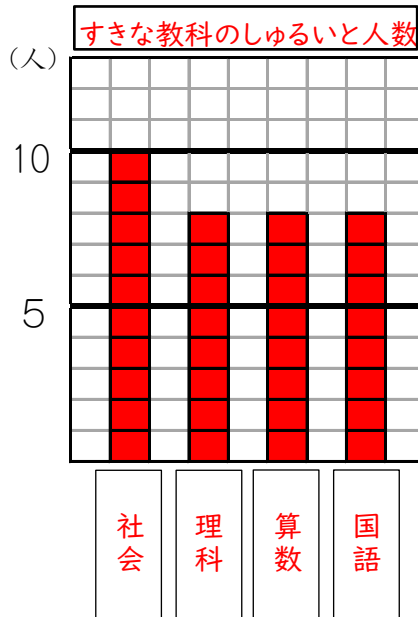
(1) すきな車のしゅるいと人数

しゅるい	人数
パトカー	10
タクシー	7
バス	4
消ぼう車	3
合計	24



(3) すきな教科のしゅるいと人数

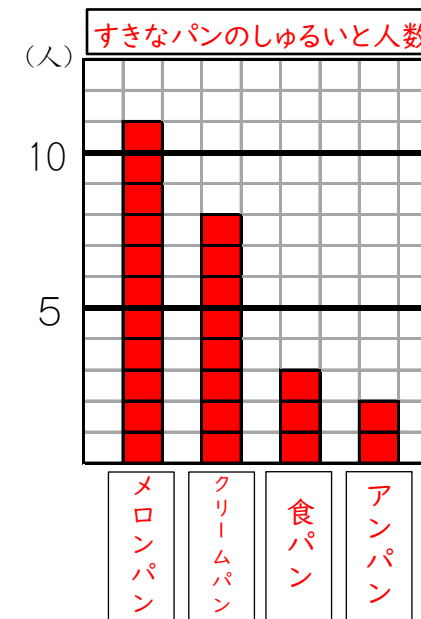
しゅるい	人数
社会	10
理科	8
算数	8
国語	8
合計	34



年 組 名前( )

(2) すきなパンのしゅるいと人数

しゅるい	人数
メロンパン	11
クリームパン	8
食パン	3
あんぱん	2
合計	24



(4) 好きな本と人数

しゅるい	人数
マンガ	8
物語	6
ざっし	6
図かん	4
合計	24

