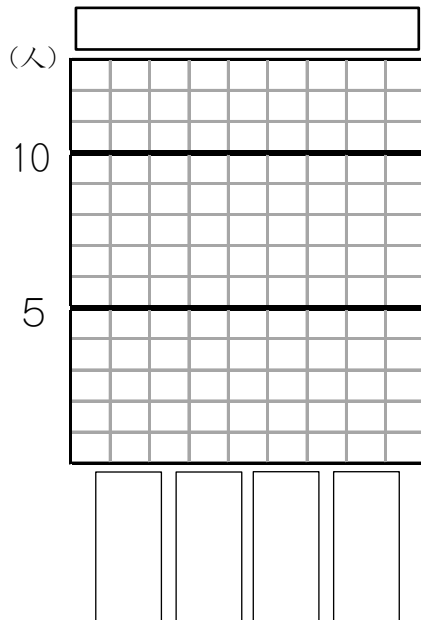


表とぼうグラフ14

表を、ぼうグラフに表しましょう。

(1) すきな鳥のしゅるいと人数

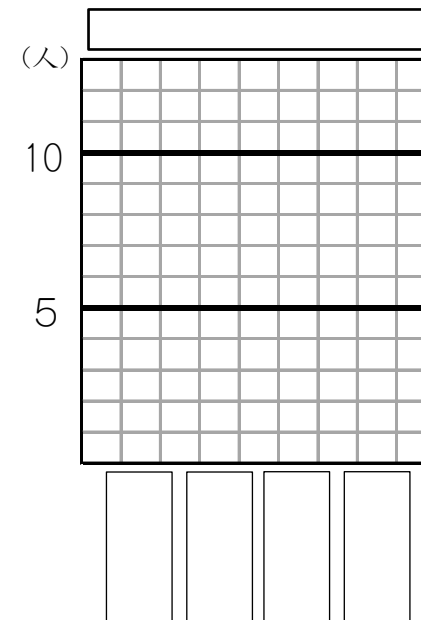
しゅるい	人数
ペンギン	7
白鳥	6
はと	4
すずめ	4
合計	21



年 組 名前()

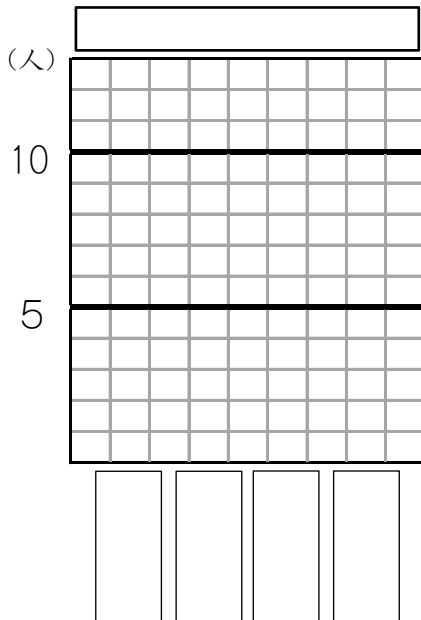
(2) すきな色のしゅるいと人数

しゅるい	人数
黄色	10
青色	6
赤色	4
白色	1
合計	21



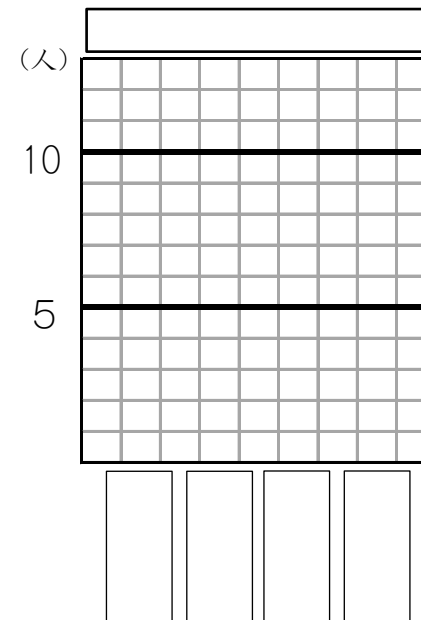
(3) すきなパンのしゅるいと人数

しゅるい	人数
メロンパン	9
食パン	8
クリームパン	3
アンパン	2
合計	22



(4) 好きなすしと人数

しゅるい	人数
なっ豆	11
サーモン	10
いか	9
まぐろ	7
合計	37

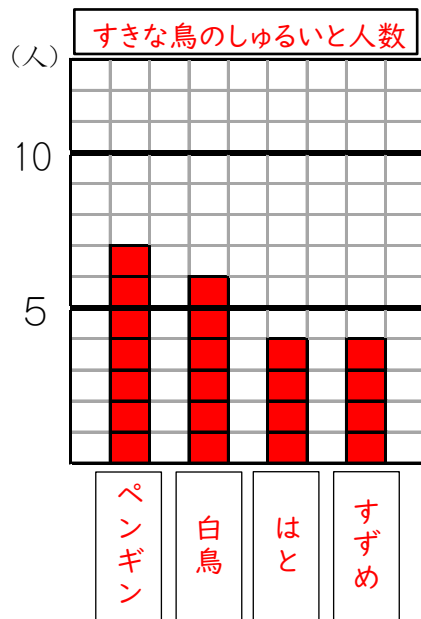


表とぼうグラフ14

表を、ぼうグラフに表しましょう。

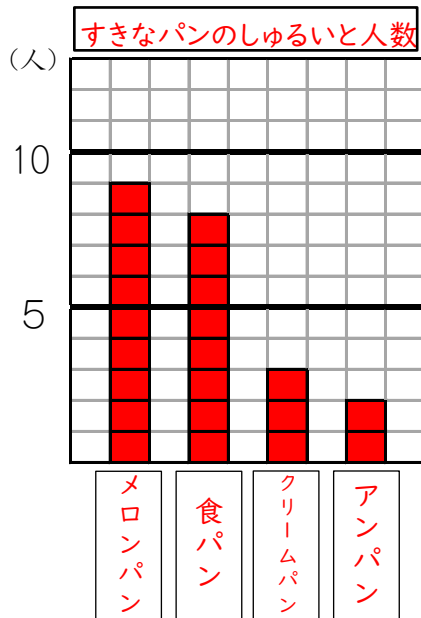
(1) すきな鳥のしゅるいと人数

しゅるい	人数
ペンギン	7
白鳥	6
はと	4
すずめ	4
合計	21



(3) すきなパンのしゅるいと人数

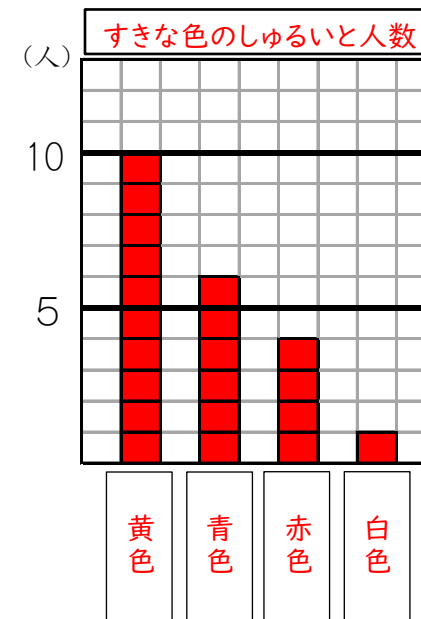
しゅるい	人数
メロンパン	9
食パン	8
クリームパン	3
アンパン	2
合計	22



年 組 名前()

(2) すきな色のしゅるいと人数

しゅるい	人数
黄色	10
青色	6
赤色	4
白色	1
合計	21



(4) 好きなすしと人数

しゅるい	人数
なっ豆	11
サーモン	10
いか	9
まぐろ	7
合計	37

