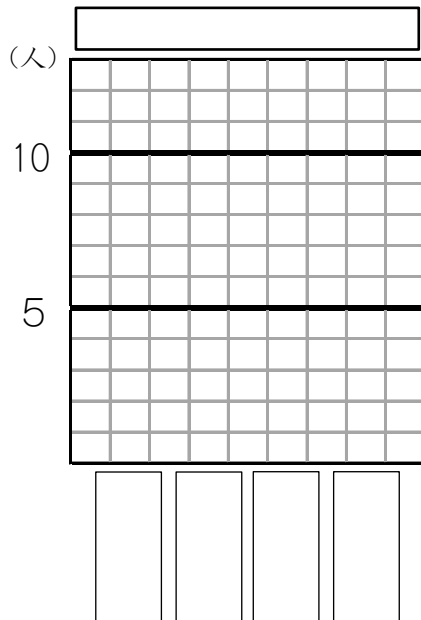


表とぼうグラフ13

表を、ぼうグラフに表しましょう。

(1) すきなパンのしゅるいと人数

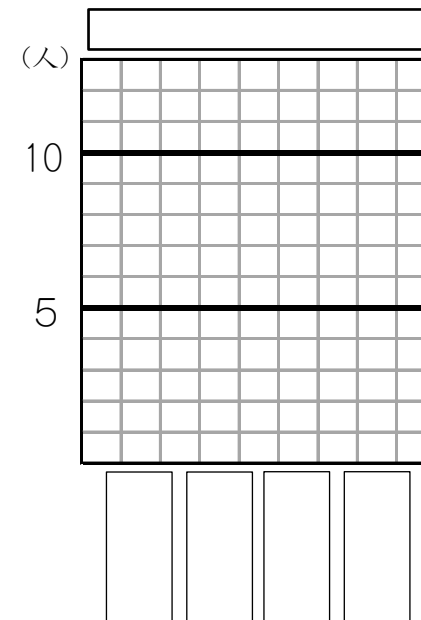
しゅるい	人数
アンパン	7
クリームパン	6
食パン	4
メロンパン	1
合計	18



年 組 名前()

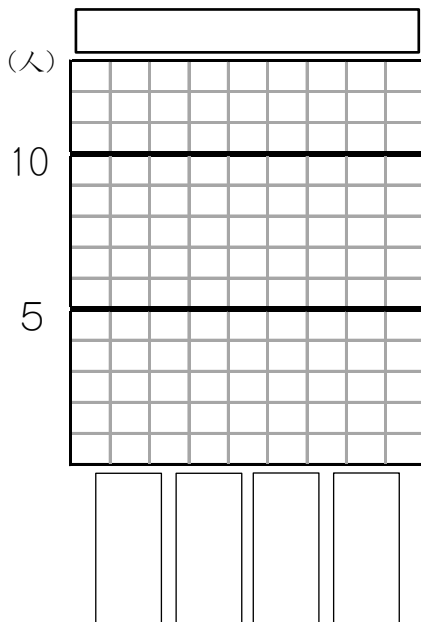
(2) すきなお菓しのしゅるいと人数

しゅるい	人数
アメ	8
ラムネ	7
ガム	3
チョコ	3
合計	21



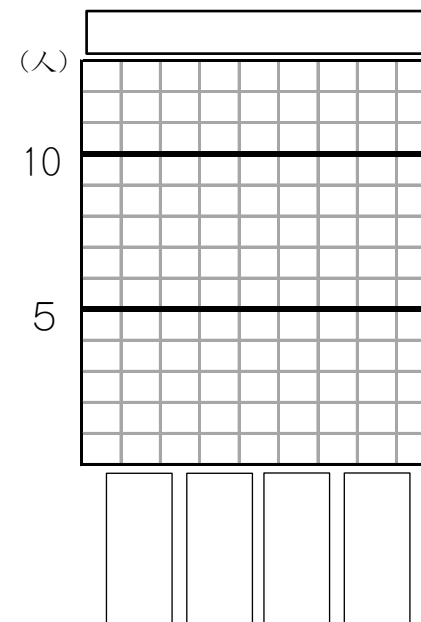
(3) すきな野菜のしゅるいと人数

しゅるい	人数
きゅうり	9
レタス	8
ナス	7
トマト	5
合計	29



(4) 好きなせつと人数

しゅるい	人数
冬	8
夏	6
秋	3
春	2
合計	19

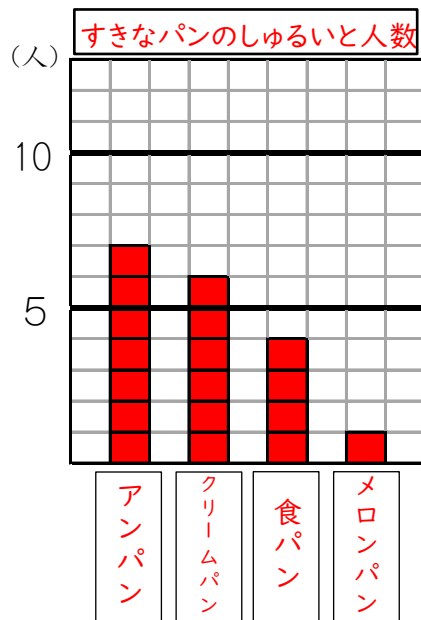


表とぼうグラフ13

表を、ぼうグラフに表しましょう。

(1) すきなパンのしゅるいと人数

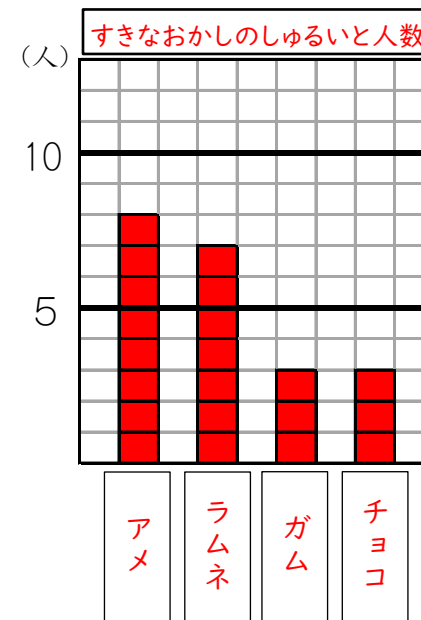
しゅるい	人数
アンパン	7
クリームパン	6
食パン	4
メロンパン	1
合計	18



年 組 名前()

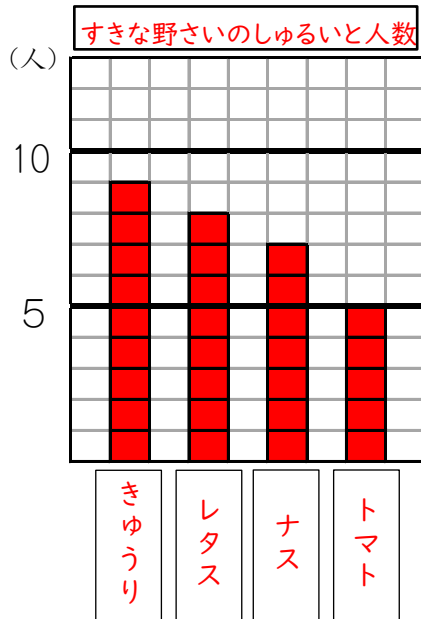
(2) すきなお菓しのしゅるいと人数

しゅるい	人数
アメ	8
ラムネ	7
ガム	3
チョコ	3
合計	21



(3) すきな野菜のしゅるいと人数

しゅるい	人数
きゅうり	9
レタス	8
ナス	7
トマト	5
合計	29



(4) 好きなきせつと人数

しゅるい	人数
冬	8
夏	6
秋	3
春	2
合計	19

