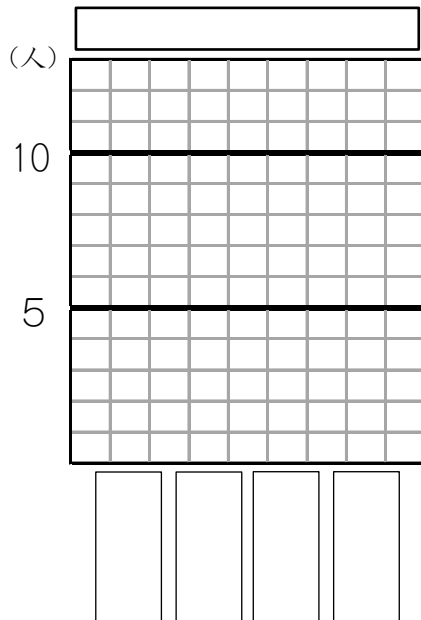


表とぼうグラフ12

表を、ぼうグラフに表しましょう。

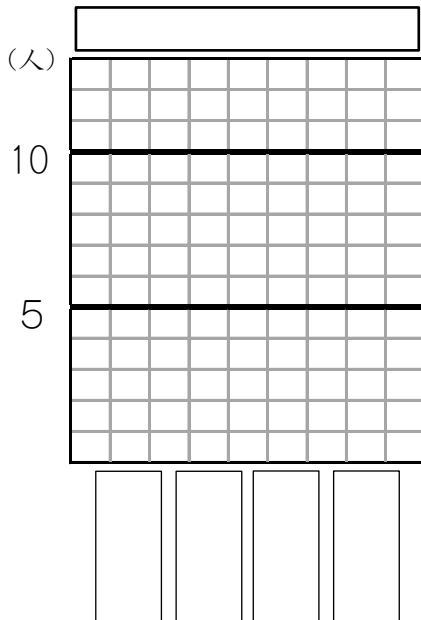
(1) すきなお菓しのしゅるいと人数

| しゅるい | 人数 |
|------|----|
| チョコ | 10 |
| ラムネ | 6 |
| ガム | 5 |
| アメ | 1 |
| 合計 | 22 |



(3) すきな動物のしゅるいと人数

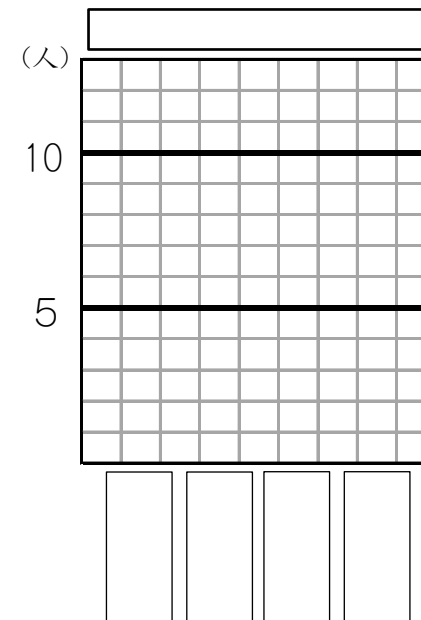
| しゅるい | 人数 |
|------|----|
| ゾウ | 11 |
| ライオン | 10 |
| キリン | 7 |
| シマウマ | 5 |
| 合計 | 33 |



年 組 名前()

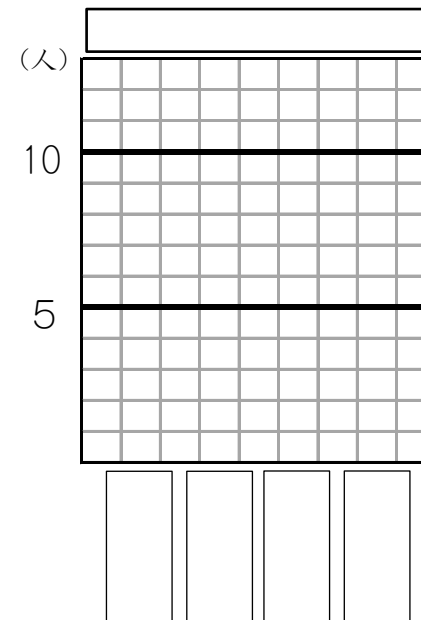
(2) すきな教科のしゅるいと人数

| しゅるい | 人数 |
|------|----|
| 国語 | 8 |
| 理科 | 7 |
| 社会 | 5 |
| 算数 | 2 |
| 合計 | 22 |



(4) 好きなきせつと人数

| しゅるい | 人数 |
|------|----|
| 冬 | 7 |
| 秋 | 6 |
| 夏 | 5 |
| 春 | 5 |
| 合計 | 23 |

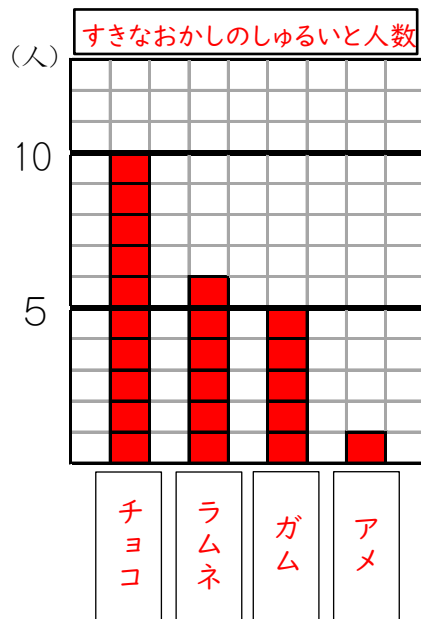


表とぼうグラフ12

表を、ぼうグラフに表しましょう。

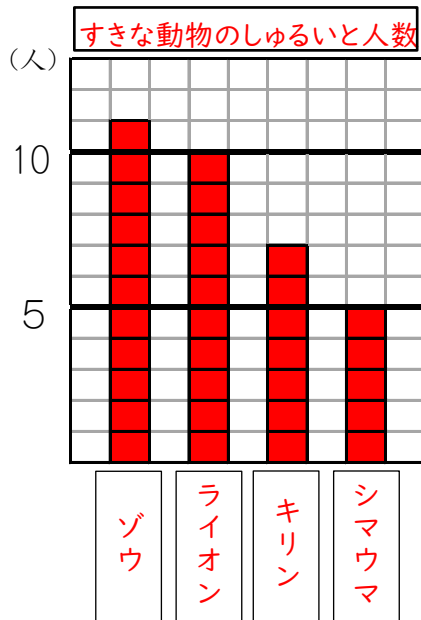
(1) すきなお菓しのしゅるいと人数

| しゅるい | 人数 |
|------|----|
| チョコ | 10 |
| ラムネ | 6 |
| ガム | 5 |
| アメ | 1 |
| 合計 | 22 |



(3) すきな動物のしゅるいと人数

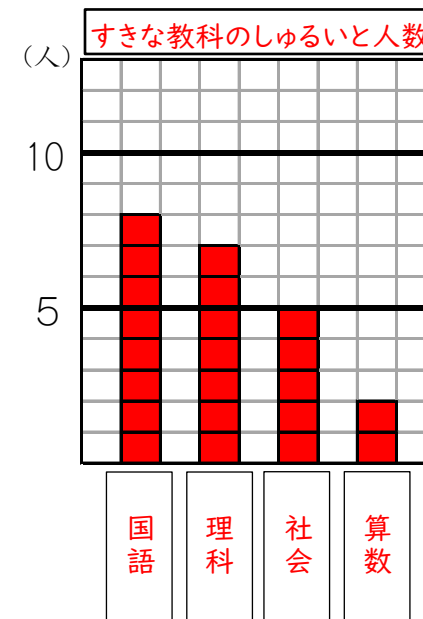
| しゅるい | 人数 |
|------|----|
| ゾウ | 11 |
| ライオン | 10 |
| キリン | 7 |
| シマウマ | 5 |
| 合計 | 33 |



年 組 名前()

(2) すきな教科のしゅるいと人数

| しゅるい | 人数 |
|------|----|
| 国語 | 8 |
| 理科 | 7 |
| 社会 | 5 |
| 算数 | 2 |
| 合計 | 22 |



(4) 好きなきせつと人数

| しゅるい | 人数 |
|------|----|
| 冬 | 7 |
| 秋 | 6 |
| 夏 | 5 |
| 春 | 5 |
| 合計 | 23 |

