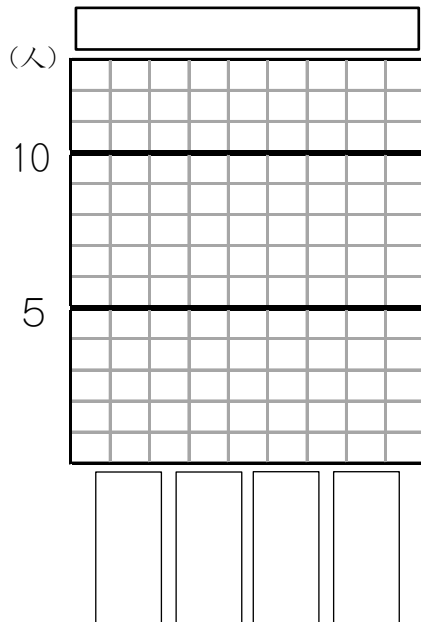


表とぼうグラフ

表を、ぼうグラフに表しましょう。

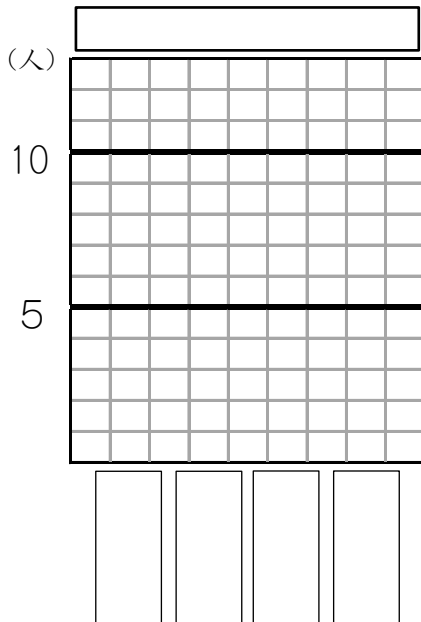
(1) すきな教科のしゅるいと人数

| しゅるい | 人数 |
|------|----|
| 社会 | 8 |
| 国語 | 7 |
| 理科 | 7 |
| 算数 | 2 |
| 合計 | 24 |



(3) すきな野さいのしゅるいと人数

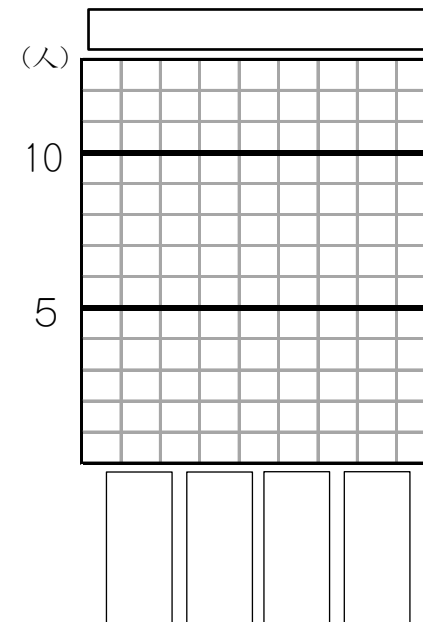
| しゅるい | 人数 |
|------|----|
| ナス | 10 |
| レタス | 7 |
| トマト | 4 |
| きゅうり | 3 |
| 合計 | 24 |



年 組 名前()

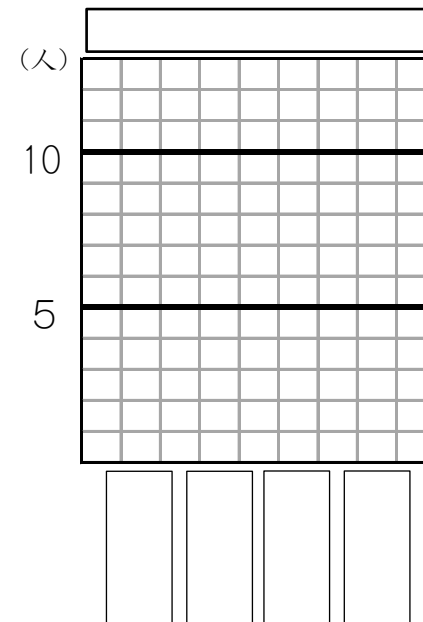
(2) すきなおかしのしゅるいと人数

| しゅるい | 人数 |
|------|----|
| アメ | 9 |
| チョコ | 7 |
| ガム | 5 |
| ラムネ | 4 |
| 合計 | 25 |



(4) 好きな花と人数

| しゅるい | 人数 |
|------|----|
| あさがお | 8 |
| ひまわり | 6 |
| たんぽぽ | 5 |
| さくら | 4 |
| 合計 | 23 |

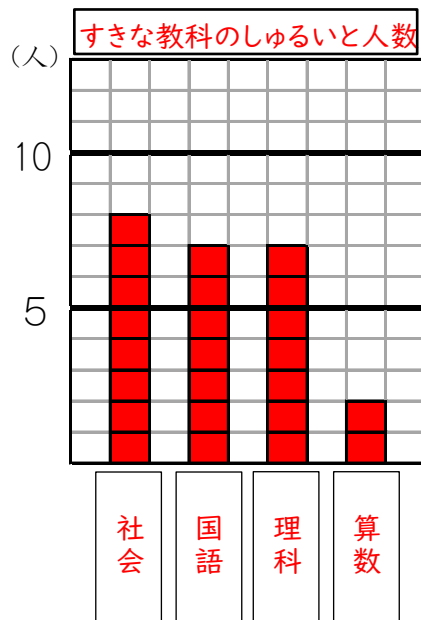


表とぼうグラフ

表を、ぼうグラフに表しましょう。

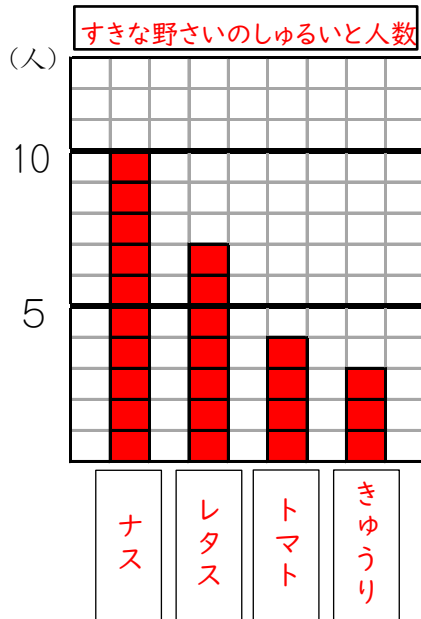
(1) すきな教科のしゅるいと人数

| しゅるい | 人数 |
|------|----|
| 社会 | 8 |
| 国語 | 7 |
| 理科 | 7 |
| 算数 | 2 |
| 合計 | 24 |



(3) すきな野さいのしゅるいと人数

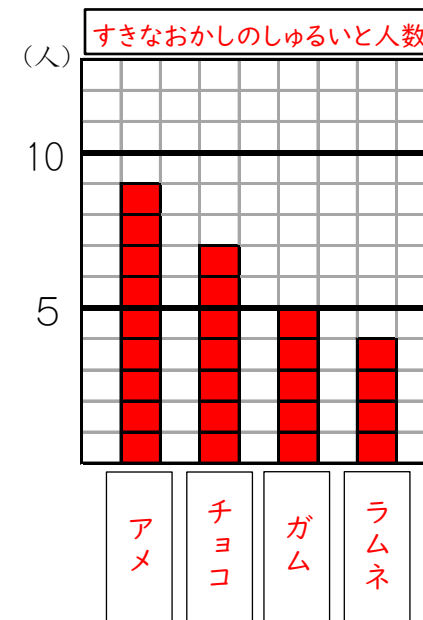
| しゅるい | 人数 |
|------|----|
| ナス | 10 |
| レタス | 7 |
| トマト | 4 |
| きゅうり | 3 |
| 合計 | 24 |



年 組 名前()

(2) すきなおかしのしゅるいと人数

| しゅるい | 人数 |
|------|----|
| アメ | 9 |
| チョコ | 7 |
| ガム | 5 |
| ラムネ | 4 |
| 合計 | 25 |



(4) 好きな花と人数

| しゅるい | 人数 |
|------|----|
| あさがお | 8 |
| ひまわり | 6 |
| たんぽぽ | 5 |
| さくら | 4 |
| 合計 | 23 |

