



# 円と球3


(長さの写し取り)

年 組 名前 ( )

AとBではどちらが長いでしょうか。コンパスを使って調べましょう。

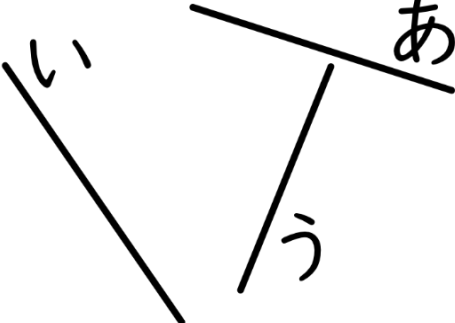
(1) A  ( )

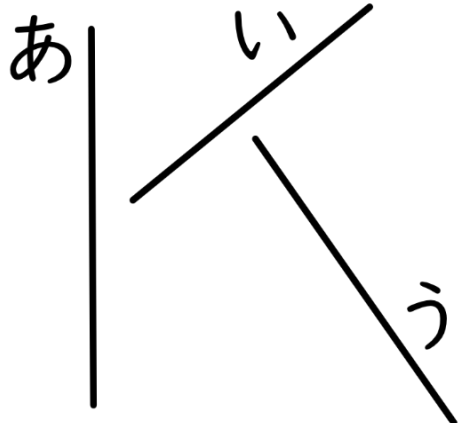
B 

(2) A  ( )

B 

あ、い、うの直線をコンパスを使ってくらべ、長いじゅんに書きましょう。


(3) 

(4) 

( ) ( )

コンパスを使って、下の直線をはじめの長さずつ区切りましょう。

(5) 


(6) 


# 円と球3

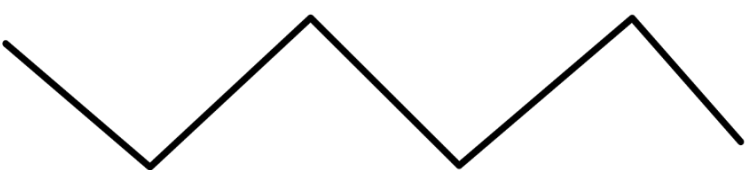
(長さの写し取り)


年 組 名前 ( )

AとBではどちらが長いでしょうか。コンパスを使って調べましょう。

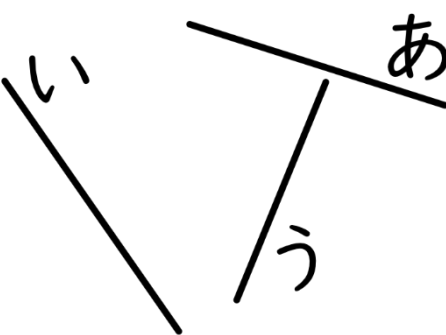
(1) A  ( B )

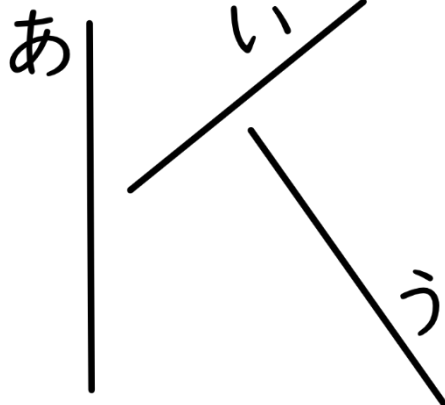
B 

(2) A  ( B )

B 

あ、い、うの直線をコンパスを使ってくらべ、長いじゅんに書きましょう。

(3) 

(4) 

( い, あ, う ) ( あ, う, い )

コンパスを使って、下の直線をはじめの長さずつ区切りましょう。

(5) 

(6) 