

円と球 I

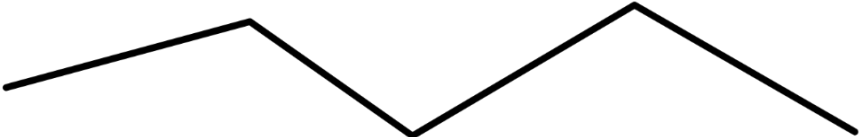
(長さの写し取り)

年 組 名前 ()

AとBではどちらが長いでしょうか。コンパスを使って調べましょう。



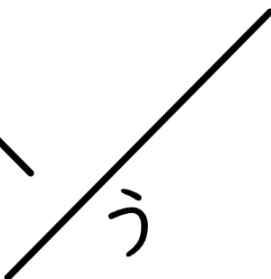
(1) A  ()



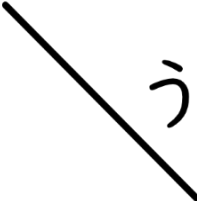
B 

(2) A  ()

B 


あ、い、うの直線を、長いじゅんに書きましょう。


(3) あ 
い 
う 

(4)  あ
い 
う 

() ()

コンパスを使って、下の直線をはじめの長さずつ区切りましょう。

(5) 

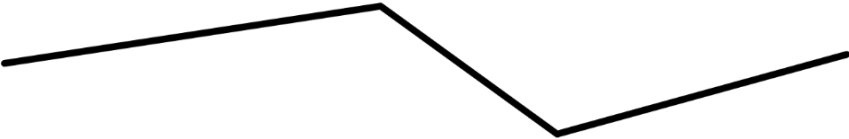
(6) 


円と球 I

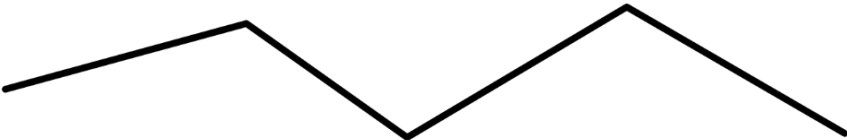
(長さの写し取り)

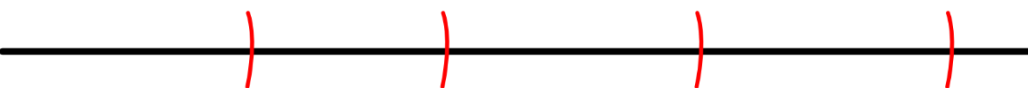
年 組 名前 ()

AとBではどちらが長いでしょうか。コンパスを使って調べましょう。

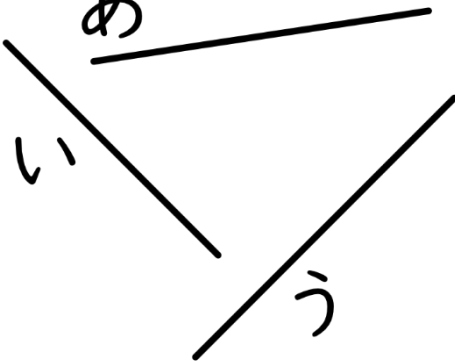
(1) A  (B)

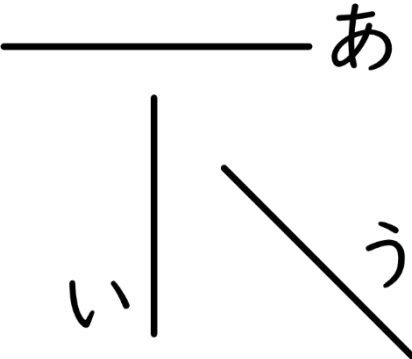
B 

(2) A  (B)

B 

あ、い、うの直線を、長いじゅんに書きましょう。

(3) あ 

(4)  あ

(う, あ, い) (あ, う, い)

コンパスを使って、下の直線をはじめの長さずつ区切りましょう。

(5) 

(6) 