

図をつかって考えよう6

年 組 名前()

図としきと 答えをかきましょう。

- (1) クッキーが何まいかあります。15まい食べたので、のこりは9まいになりました。はじめにあったクッキーは何まいですか。

図

しき

答え

- (2) やかんに水が何dLか入っています。18dL水を入れたので、ぜんぶで31dLになりました。はじめに水は何dL入っていましたか。

図

しき

答え

- (3) はじめ、バナナが45本ありました。何本かくばったので、のこりは26本になりました。くばったバナナは何本ですか。

図

しき

答え

- (4) 本を何さつかもっています。18さつ買ってもらったので、ぜんぶで47さつになりました。はじめにもっていた本は何さつですか。

図

しき

答え

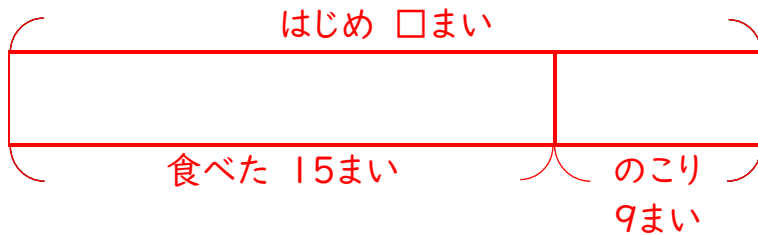
図をつかって考えよう6

年 組 名前()

図としきと 答えをかきましょう。

- (1) クッキーが何まいかあります。15まい食べたので、のこりは9まいになりました。はじめにあったクッキーは何まいですか。

図



しき

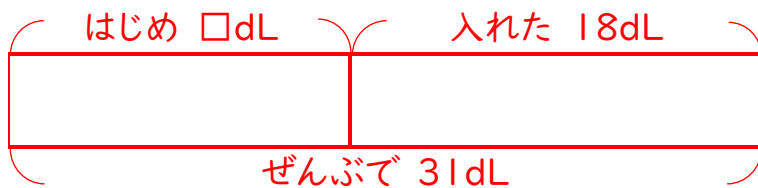
$$15 + 9 = 24$$

答え

$$24 \text{まい}$$

- (2) やかんに水が何dLか入っています。18dL水を入れたので、ぜんぶで31dLになりました。はじめに水は何dL入っていましたか。

図



しき

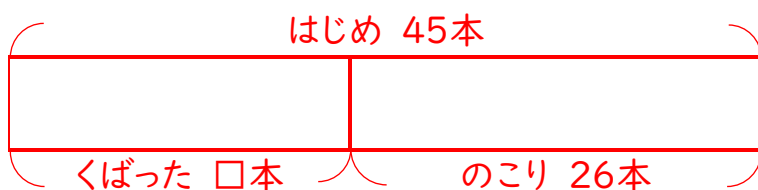
$$31 - 18 = 13$$

答え

$$13 \text{dL}$$

- (3) はじめ、バナナが45本ありました。何本かくばったので、のこりは26本になりました。くばったバナナは何本ですか。

図



しき

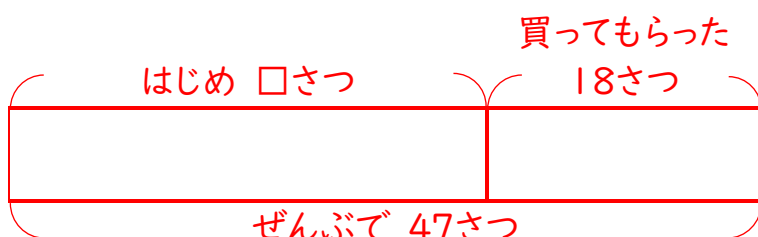
$$45 - 26 = 19$$

答え

$$19 \text{本}$$

- (4) 本を何さつかもっています。18さつ買ってもらったので、ぜんぶで47さつになりました。はじめにもっていた本は何さつですか。

図



しき

$$47 - 18 = 29$$

答え

$$29 \text{さつ}$$