

図をつかって考えよう4

年 組 名前()

図としきと 答えをかきましょう。

- (1) ーりん車が32台ありました。何台かかりられているので、24台のこっています。かりられているーりん車は何台ですか。

図

しき

答え

- (2) ノートのページがぜんぶで何ページかあります。14ページつかったので、16ページのこっています。ノートはぜんぶで何ページでしょう。

図

しき

答え

- (3) コインが何まいかあります。13まいもらったので、ぜんぶで41まいになりました。はじめにあったコインは何まいですか。

図

しき

答え

- (4) ビー玉を何こかもっています。15こもらったので、ぜんぶで55こになりました。はじめにもっていたビー玉は何こですか。

図

しき

答え

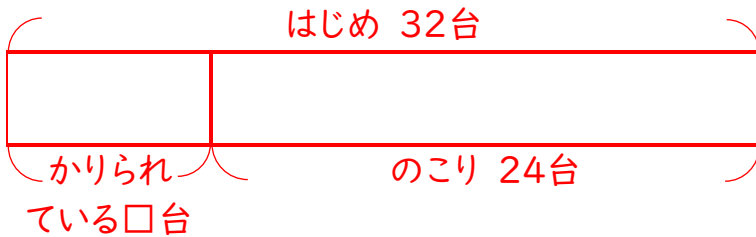
図をつかって考えよう4

年 組 名前()

図としきと答えをかきましょう。

- (1) ーりん車が32台ありました。何台かかりられているので、24台のこっています。かりられているーりん車は何台ですか。

図



しき

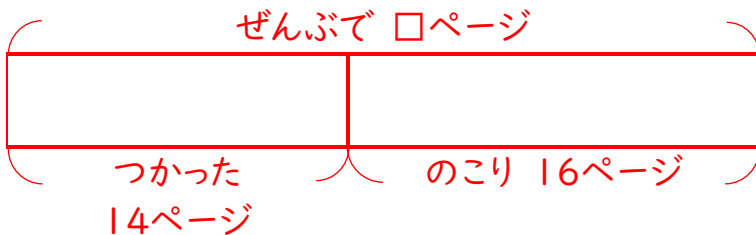
$$32 - 24 = 8$$

答え

8台

- (2) ノートのページがぜんぶで何ページかあります。14ページつかったので、16ページのこっています。ノートはぜんぶで何ページでしょう。

図



しき

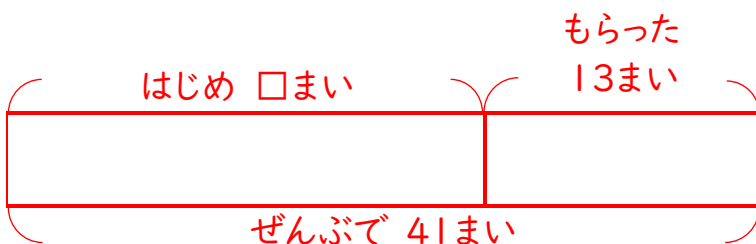
$$14 + 16 = 30$$

答え

30ページ

- (3) コインが何まいかあります。13まいもらったので、ぜんぶで41まいになりました。はじめにあったコインは何まいですか。

図



しき

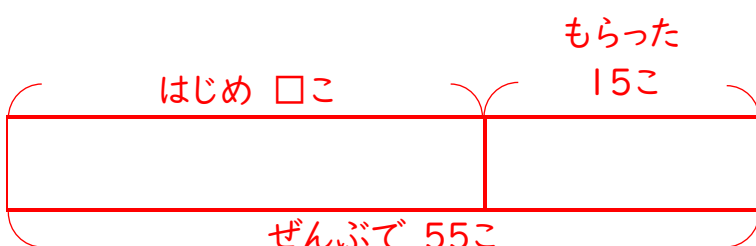
$$41 - 13 = 28$$

答え

28まい

- (4) ビー玉を何こかもっています。15こもらったので、ぜんぶで55こになりました。はじめにもっていたビー玉は何こですか。

図



しき

$$55 - 15 = 40$$

答え

40こ