

図をつかって考えよう3

年 組 名前()

図としきと答えをかきましょう。

- (1) トランプが52まいあります。何まいか友だちにくばったので、のこりが45まいになりました。友だちに何まいくばりましたか。

図

しき

答え

- (2) さくらんぼが何こかありました。26こあげたので、のこりは15こになりました。はじめにさくらんぼは何こありましたか。

図

しき

答え

- (3) バスにおきやくさんが8人のっていました。何人かのってきたので、おきやくさんは27人になりました。何人かのってきたのでしょうか。

図

しき

答え

- (4) お店ですいかが何こか売れました。さらに17こ売れたので、ぜんぶで30こ売れたことになりました。はじめスイカは何こ売れましたか。

図

しき

答え

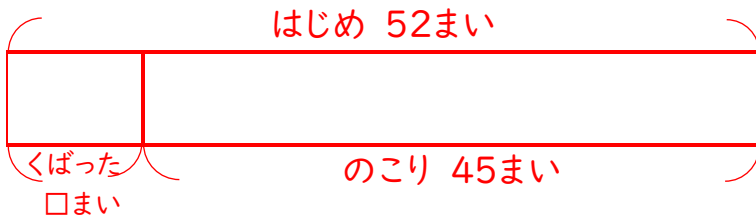
図をつかって考えよう3

年 組 名前()

図としきと答えをかきましょう。

- (1) トランプが52まいあります。何まいか友だちにくばったので、のこりが45まいになりました。友だちに何まいくばりましたか。

図



しき

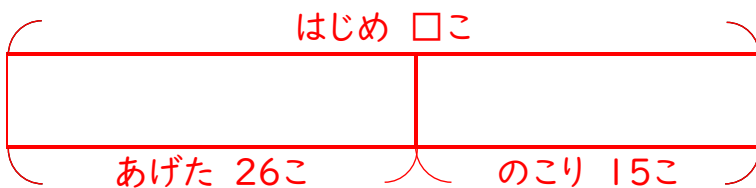
$$52 - 45 = 7$$

答え

7まい

- (2) さくらんぼが何こかありました。26こあげたので、のこりは15こになりました。はじめにさくらんぼは何こありましたか。

図



しき

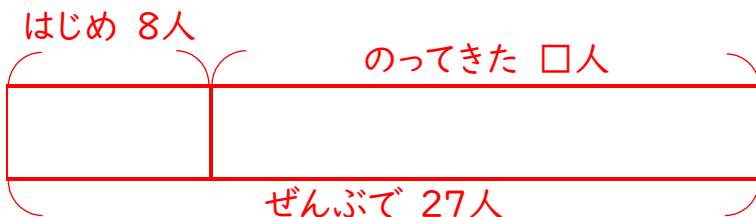
$$26 + 15 = 41$$

答え

41こ

- (3) バスにおきやくさんが8人のっていました。何人かのってきたので、おきやくさんは27人になりました。何人かのってきたのでしょうか。

図



しき

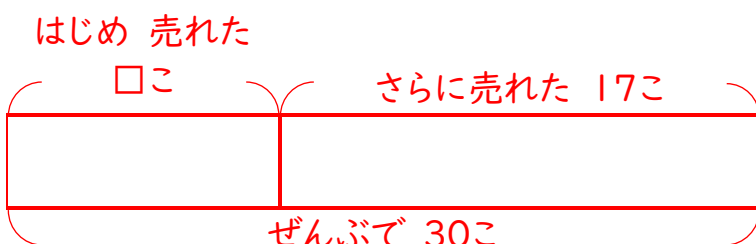
$$27 - 8 = 19$$

答え

19人

- (4) お店ですいかが何こか売れました。さらに17こ売れたので、ぜんぶで30こ売れたことになりました。はじめスイカは何こ売れましたか。

図



しき

$$30 - 17 = 13$$

答え

13こ