

図をつかって考えよう！

年 組 名前()

図としきと 答えをかきましょう。

- (1) 13人でおにごっこをしています。後から何人か来たので、みんなで22人になりました。後から来たのは何人でしょう。

図

しき

答え

- (2) 25人でドッジボールをしています。何人か帰ったので、のこりは8人になりました。帰ったのは何人でしょう。

図

しき

答え

- (3) さいしょ、みかんが何こかありました。18こあげたので、のこりは15こになりました。はじめにみかんは何こありましたか。

図

しき

答え

- (4) おはじきを何こかもっています。9こもらったので、ぜんぶで35こになりました。はじめにもっていたおはじきは何こですか。

図

しき

答え

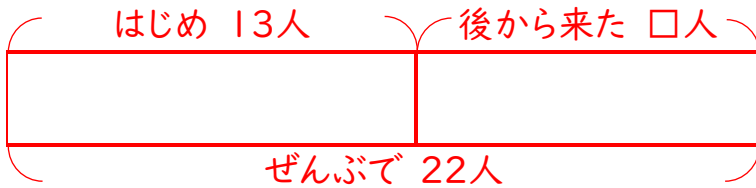
図をつかって考えよう！

年 組 名前()

図としきと 答えをかきましょう。

- (1) 13人でおにごっこをしています。後から何人か来たので、みんなで22人になりました。後から来たのは何人でしょう。

図



しき

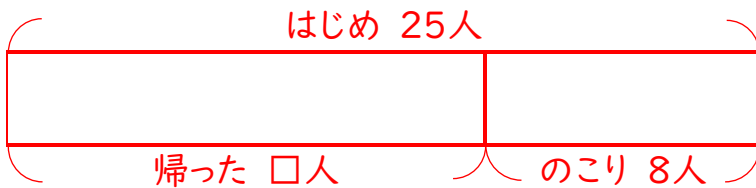
$$22 - 13 = 9$$

答え

9人

- (2) 25人でドッジボールをしています。何人か帰ったので、のこりは8人になりました。帰ったのは何人でしょう。

図



しき

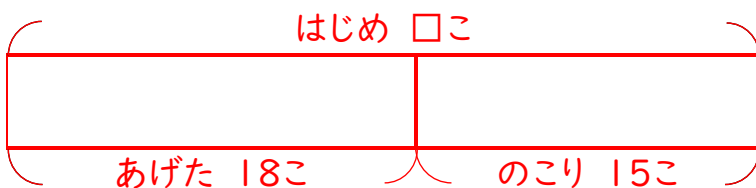
$$25 - 8 = 17$$

答え

17人

- (3) さいしょ、みかんが何こかありました。18こあげたので、のこりは15こになりました。はじめにみかんは何こありましたか。

図



しき

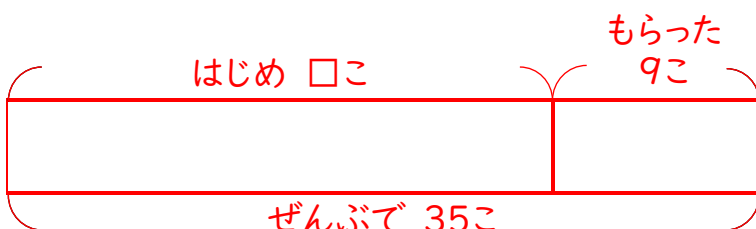
$$18 + 15 = 33$$

答え

33こ

- (4) おはじきを何こかもっています。9こもらったので、ぜんぶで35こになりました。はじめにもっていたおはじきは何こですか。

図



しき

$$35 - 9 = 26$$

答え

26こ