

さんかくやしかくの形9

年 組 名前()

つぎの形をかきましょう。

(1) たて5cm,よこ6cmの長方形

(2) 1つのへんの長さが3cmの正方形

(3) 5cmのへんと6cmのへんの間に,直角のかどがある直角三角形

(4) 4cmのへんと6cmのへんの間に,直角のかどがある直角三角形

(5) 1つのへんの長さが4cmの正方形

(6) たて3cm,よこ7cmの長方形

(1)

(2)

(3)

(4)

(5)

(6)

さんかくやしかくの形9

年 組 名前()

つぎの形をかきましょう。

(1) たて5cm,よこ6cmの長方形


(2) 1つのへんの長さが3cmの正方形

(3) 5cmのへんと6cmのへんの間に,直角のかどがある直角三角形 (4) 4cmのへんと6cmのへんの間に,直角のかどがある直角三角形


(5) 1つのへんの長さが4cmの正方形

(6) たて3cm,よこ7cmの長方形

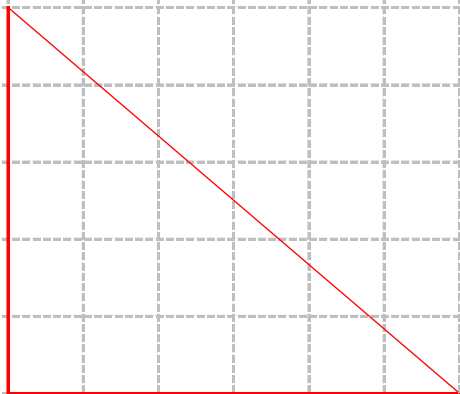
(1)



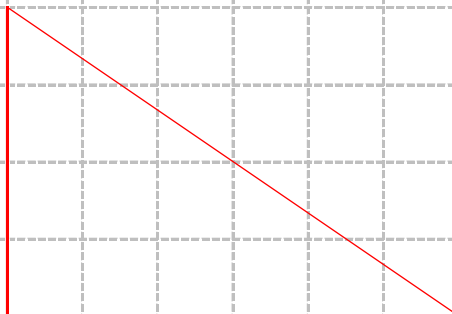
(2)




(3)



(4)



(5)



(6)

