

# さんかくやしかくの形17

年 組 名前( )

つぎの形をかきましょう。

(1) たて4cm,よこ6cmの長方形

(2) 1つのへんの長さが5cmの正方形

(3) 4cmのへんと5cmのへんの間に,直角のかどがある直角三角形

(4) たて6cm,よこ7cmの長方形

(5) 3cmのへんと5cmのへんの間に,直角のかどがある直角三角形

(6) 1つのへんの長さが3cmの正方形

(1)

(2)

(3)

(4)

(5)

(6)

# さんかくやしかくの形17

年 組 名前( )

つぎの形をかきましょう。

(1) たて4cm,よこ6cmの長方形

(2) 1つのへんの長さが5cmの正方形


(3) 4cmのへんと5cmのへんの間に,直角のかどがある直角三角形

(4) たて6cm,よこ7cmの長方形


(5) 3cmのへんと5cmのへんの間に,直角のかどがある直角三角形

(6) 1つのへんの長さが3cmの正方形

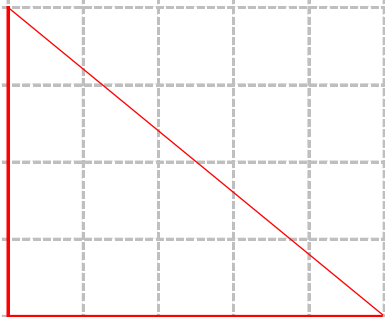
(1)




(2)



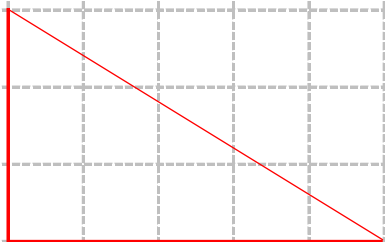
(3)



(4)



(5)



(6)

