

さんかくやしかくの形 I

年 組 名前 ()

つぎの形をかきましょう。

- (1) たて3cm, よこ8cmの長方形 (2) 1つのへんの長さが4cmの正方形
(3) 3cmのへんと6cmのへんの間に, 直角のかどがある直角三角形 (4) 1つのへんの長さが5cmの正方形
(5) 5cmのへんと6cmのへんの間に, 直角のかどがある直角三角形 (6) たて5cm, よこ7cmの長方形

(1)

(2)

(3)

(4)

(5)

(6)

さんかくやしかくの形1

年 組 名前()

つぎの形をかきましょう。

(1) たて3cm, よこ8cmの長方形

(2) 1つのへんの長さが4cmの正方形


(3) 3cmのへんと6cmのへんの間に, 直角のかどがある直角三角形

(4) 1つのへんの長さが5cmの正方形


(5) 5cmのへんと6cmのへんの間に, 直角のかどがある直角三角形

(6) たて5cm, よこ7cmの長方形

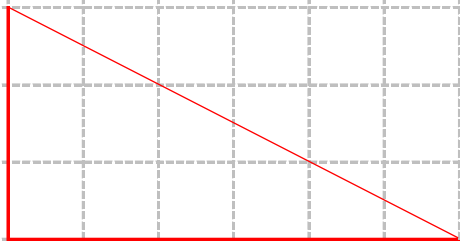
(1)




(2)



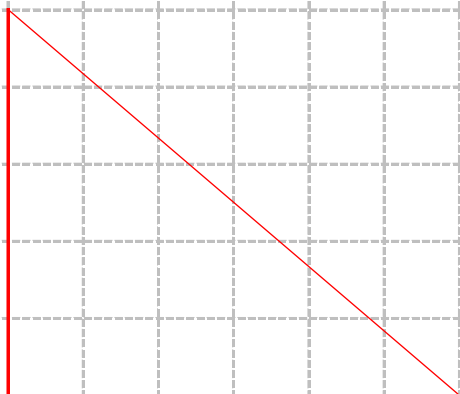
(3)



(4)



(5)



(6)

