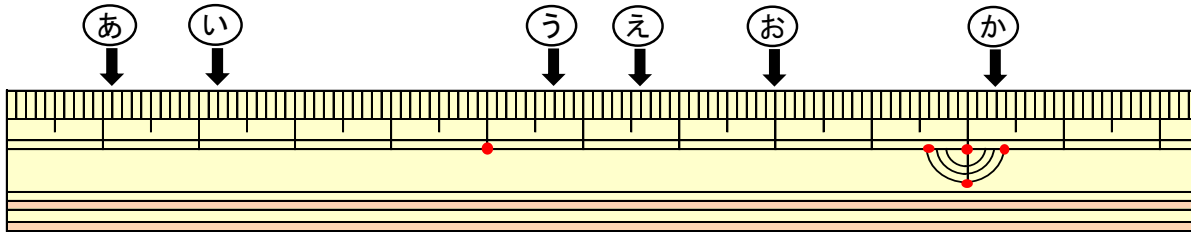


# 長さ6

年 組 名前( )

ものさしのやじるしの長さを答えましょう。

(1)

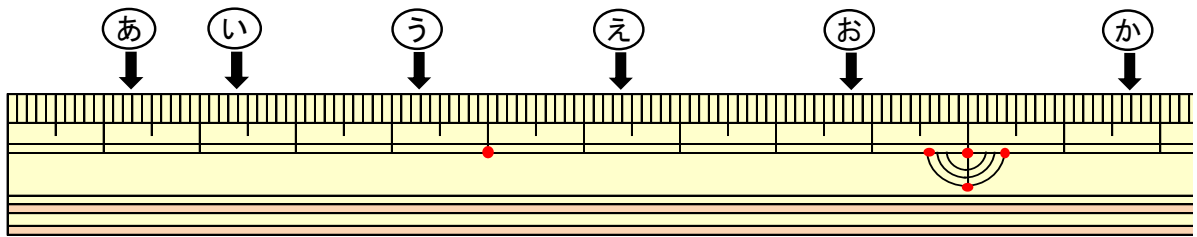


あ (      cm      mm)    い (      cm      mm)

う (      cm      mm)    え (      cm      mm)

お (      cm      mm)    か (      cm      mm)

(2)

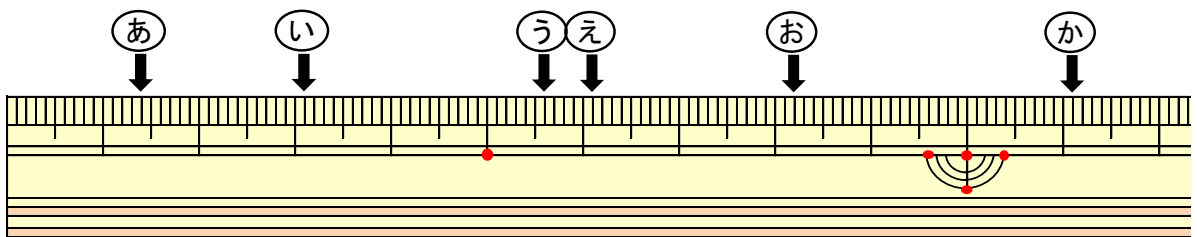


あ (      cm      mm)    い (      cm      mm)

う (      cm      mm)    え (      cm      mm)

お (      cm      mm)    か (      cm      mm)

(3)



あ (      cm      mm)    い (      cm      mm)

う (      cm      mm)    え (      cm      mm)

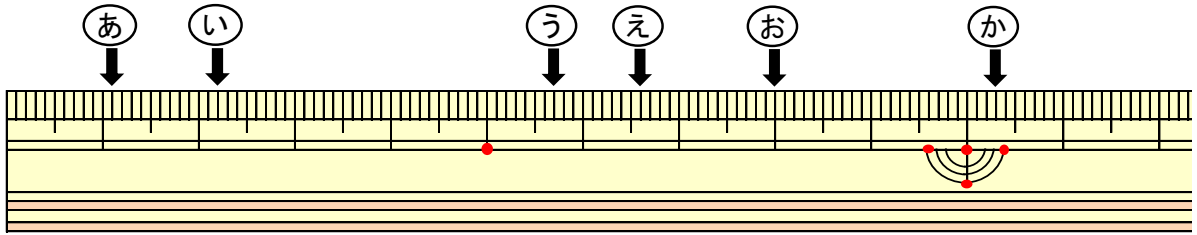
お (      cm      mm)    か (      cm      mm)

# 長さ6

年 組 名前( )

ものさしのやじるしの長さを答えましょう。

(1)

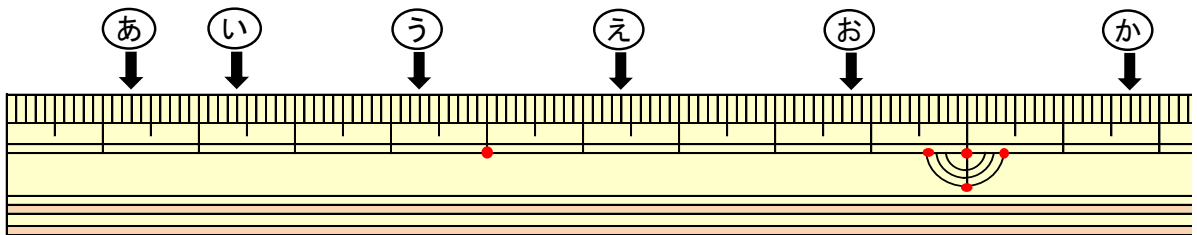


あ ( 1 cm 1 mm ) い ( 2 cm 2 mm )

う ( 5 cm 7 mm ) え ( 6 cm 6 mm )

お ( 8 cm ) か ( 10 cm 3 mm )

(2)

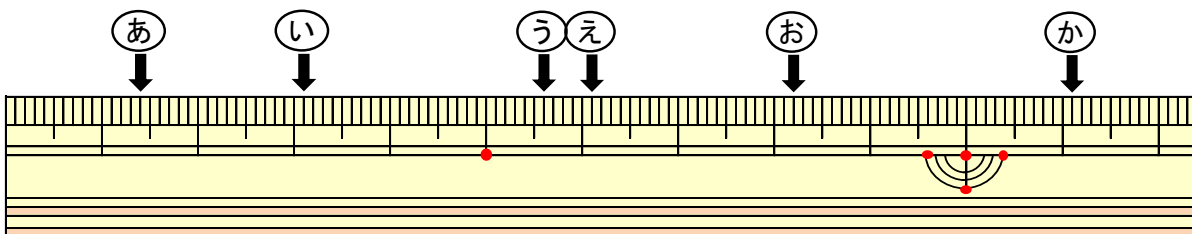


あ ( 1 cm 3 mm ) い ( 2 cm 4 mm )

う ( 4 cm 3 mm ) え ( 6 cm 4 mm )

お ( 8 cm 8 mm ) か ( 11 cm 7 mm )

(3)



あ ( 1 cm 4 mm ) い ( 3 cm 1 mm )

う ( 5 cm 6 mm ) え ( 6 cm 1 mm )

お ( 8 cm 2 mm ) か ( 11 cm 1 mm )