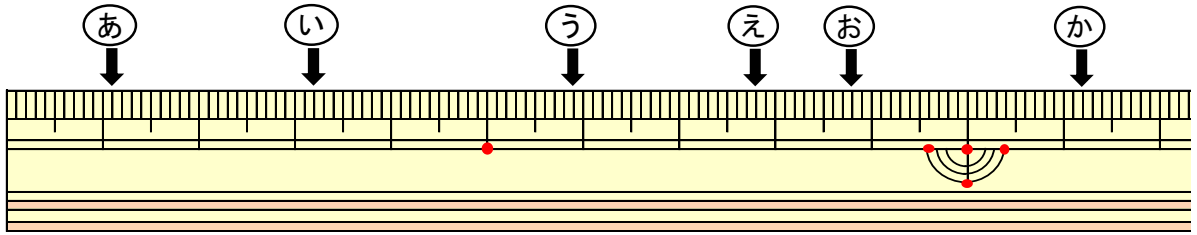


長さ14

年 組 名前()

ものさしのやじるしの長さを答えましょう。

(1)

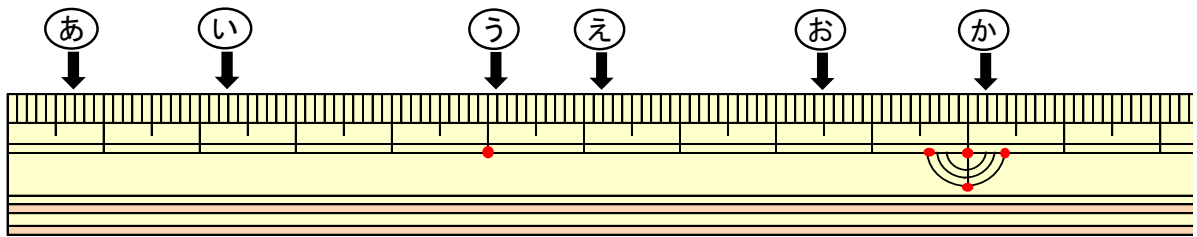


あ (cm mm) い (cm mm)

う (cm mm) え (cm mm)

お (cm mm) か (cm mm)

(2)

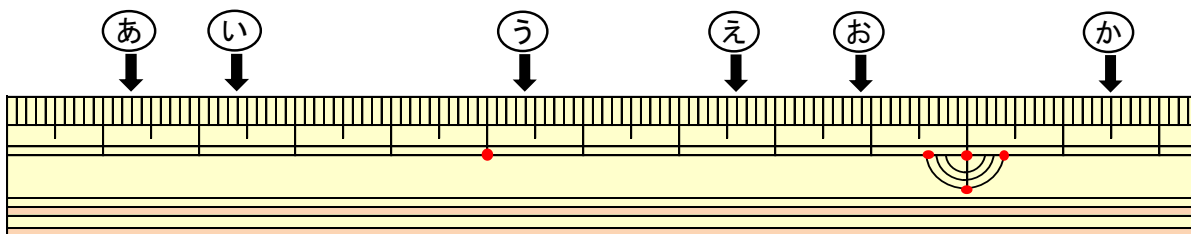


あ (cm mm) い (cm mm)

う (cm mm) え (cm mm)

お (cm mm) か (cm mm)

(3)



あ (cm mm) い (cm mm)

う (cm mm) え (cm mm)

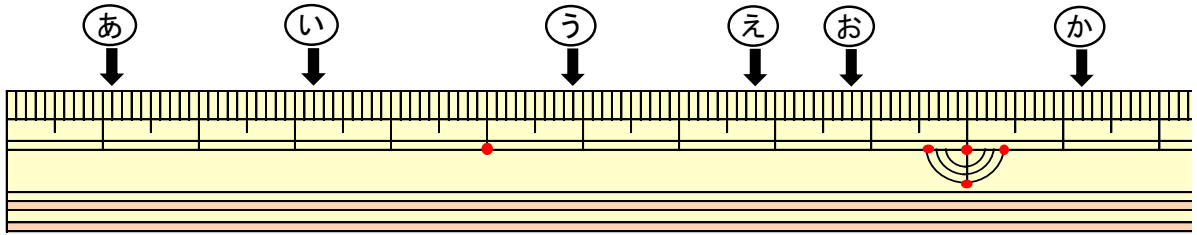
お (cm mm) か (cm mm)

長さ14

年 組 名前()

ものさしのやじるしの長さを答えましょう。

(1)

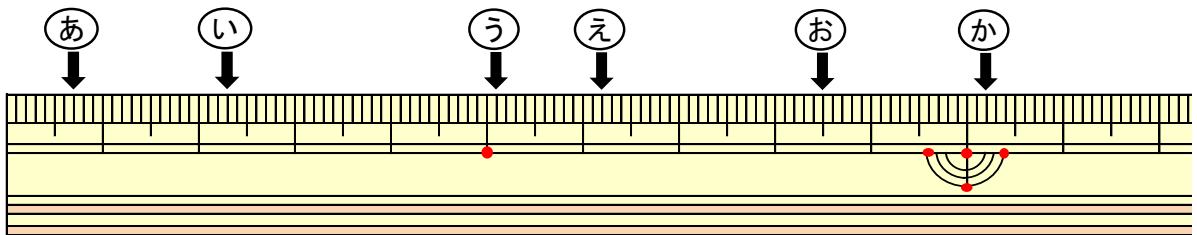


あ (1 cm 1 mm) い (3 cm 2 mm)

う (5 cm 9 mm) え (7 cm 8 mm)

お (8 cm 8 mm) か (11 cm 2 mm)

(2)

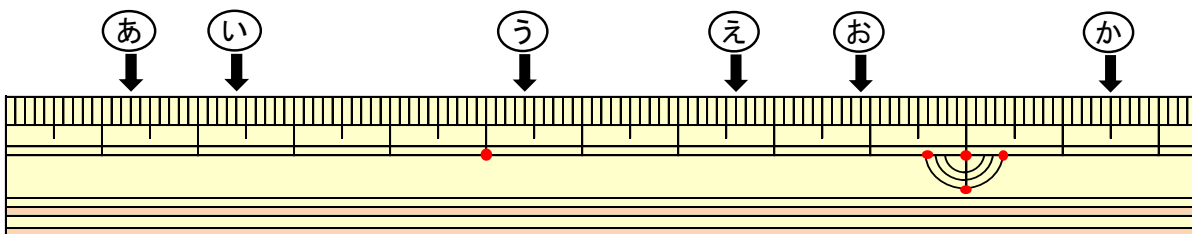


あ (7 mm) い (2 cm 3 mm)

う (5 cm 1 mm) え (6 cm 2 mm)

お (8 cm 5 mm) か (10 cm 2 mm)

(3)



あ (1 cm 3 mm) い (2 cm 4 mm)

う (5 cm 4 mm) え (7 cm 6 mm)

お (8 cm 9 mm) か (11 cm 5 mm)