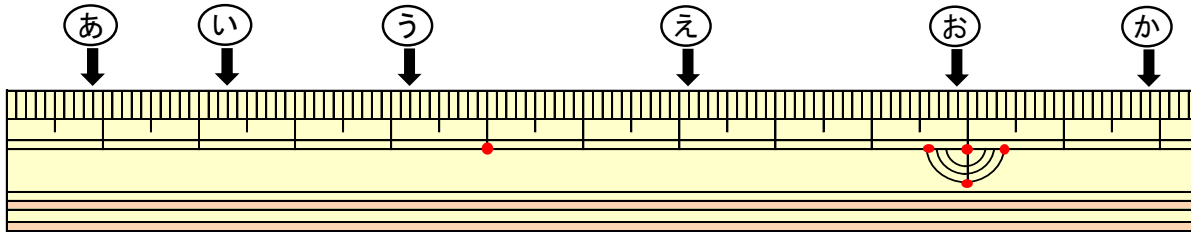


# 長さ1

年 組 名前( )

ものさしのやじるしの長さを答えましょう。

(1)

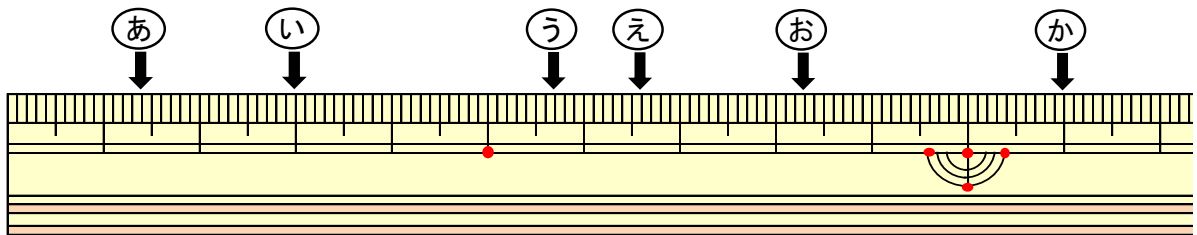


あ (      cm      mm)    い (      cm      mm)

う (      cm      mm)    え (      cm      mm)

お (      cm      mm)    か (      cm      mm)

(2)

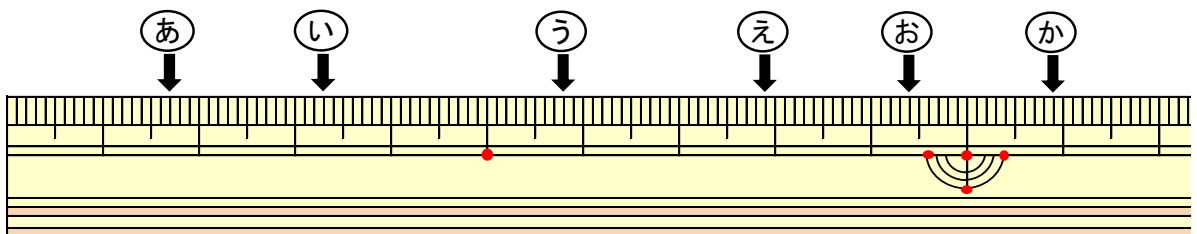


あ (      cm      mm)    い (      cm      mm)

う (      cm      mm)    え (      cm      mm)

お (      cm      mm)    か (      cm      mm)

(3)



あ (      cm      mm)    い (      cm      mm)

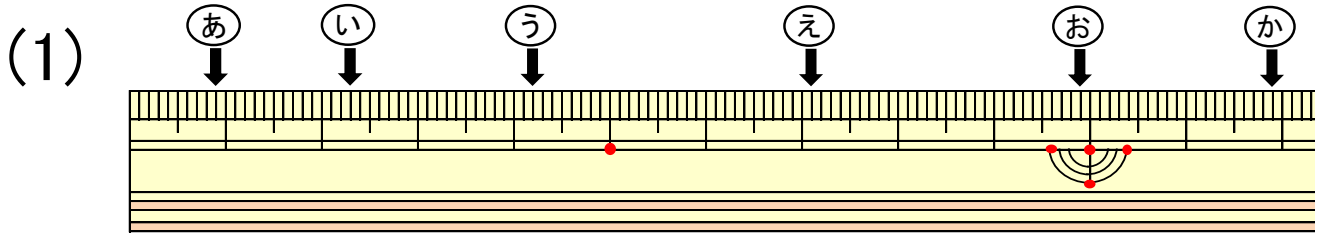
う (      cm      mm)    え (      cm      mm)

お (      cm      mm)    か (      cm      mm)

# 長さ1

年 組 名前( )

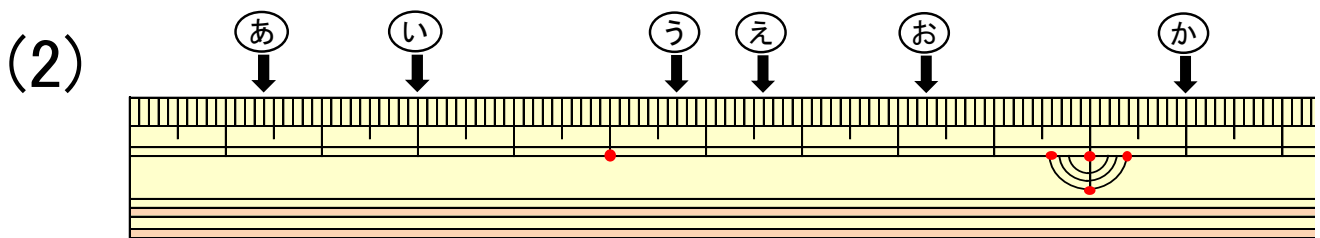
ものさしのやじるしの長さを答えましょう。



あ ( 9 mm )    い ( 2 cm 3 mm )

う ( 4 cm 2 mm )    え ( 7 cm 1 mm )

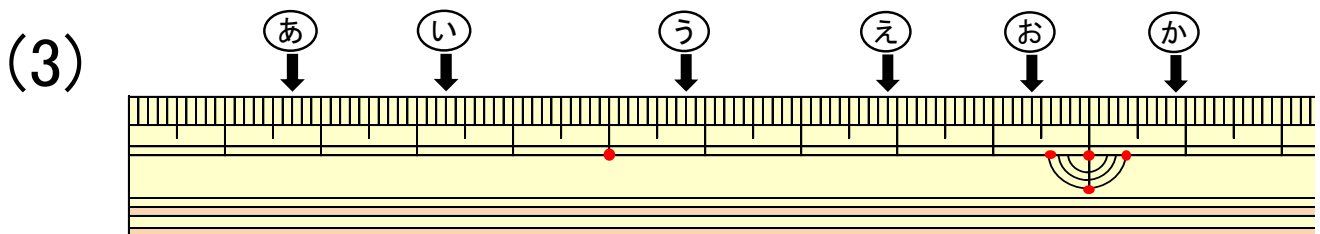
お ( 9 cm 9 mm )    か ( 11 cm 9 mm )



あ ( 1 cm 4 mm )    い ( 3 cm )

う ( 5 cm 7 mm )    え ( 6 cm 6 mm )

お ( 8 cm 3 mm )    か ( 11 cm )



あ ( 1 cm 7 mm )    い ( 3 cm 3 mm )

う ( 5 cm 8 mm )    え ( 7 cm 9 mm )

お ( 9 cm 4 mm )    か ( 10 cm 9 mm )