


かけ算5

(丸の数)

年 組 名前()

● の 数 を くふうして もとめましょう。


(1)



しき

こたえ


(2)



しき

こたえ


(3)



しき

こたえ

(4)



しき

こたえ


かけ算5

(丸の数)

年 組 名前()

● の数をくふうして求めましょう。


(1)



$$\begin{aligned} \text{しき} & 3 \times 8 = 24 \\ \text{(れい)} & 2 \times 2 = 4 \\ & 24 + 4 = 28 \end{aligned}$$

こたえ 28こ


(2)



$$\begin{aligned} \text{しき} & 5 \times 2 = 10 \\ \text{(れい)} & 3 \times 2 = 6 \\ & 5 \times 4 = 20 \\ & 10 + 6 + 20 = 36 \end{aligned}$$

こたえ 36こ


(3)



$$\begin{aligned} \text{しき} & 6 \times 8 = 48 \\ \text{(れい)} & 2 \times 2 = 4 \\ & 2 \times 2 = 4 \\ & 48 - 4 - 4 = 40 \end{aligned}$$

こたえ 40こ

(4)



$$\begin{aligned} \text{しき} & 3 \times 4 = 12 \\ \text{(れい)} & 12 + 9 = 21 \end{aligned}$$

こたえ 21こ