

ずをつかってかんがえよう6

ねん くみ なまえ()

ずとしきとこたえをかきましょう。

- (1) かずきさんのみぎに 3人 ならんでいます。かずきさんの ひだりに 7人います。みんなで なん人いますか。

ず

しき

こたえ

- (2) 本を 11さつ ならべました。どうぶつのは、ひだりから 4ばんめに あります。どうぶつのはんのみぎには なんさつ ありますか。

ず

しき

こたえ

- (3) しょうたさんは、まえから 10ばんめに います。しょうたさんの うしろに 3人 います。みんなで なん人 いますか。

ず

しき

こたえ

- (4) かなこさんのまえに 6人 ならんでいます。かなこさんの うしろに 2人 います。みんなで なん人 いますか。

ず

しき

こたえ

ずをつかってかんがえよう6


ねん くみ なまえ()

ずとしきとこたえをかきましょう。

(1) かずきさんのみぎに 3人 ならんでいます。かずきさんの ひだりに 7人います。みんなで なん人いますか。

ず しき

3人 かずき 7人 $3+1+7=11$




こたえ 11人

(2) 本を 11さつ ならべました。どうぶつのは、ひだりから 4ばんめに あります。どうぶつのはのみぎには なんさつ ありますか。

ず しき

11さつ




こたえ $11-4=7$

7さつ

(3) しょうたさんは、まえから 10ばんめに います。しょうたさんの うしろに 3人 います。みんなで なん人 いますか。

ず しき

10人 3人 $10+3=13$




こたえ 13人

(4) かなこさんのまえに 6人 ならんでいます。かなこさんの うしろに 2人 います。みんなで なん人 いますか。

ず しき

6人 かなこ 2人 $6+1+2=9$



こたえ 9人