

ずをつかってかんがえよう4

ねん くみ なまえ()

ずとしきとこたえをかきましょう。

- (1) 人が ならんでいます。ゆうさんのまえに 6人 ならんでいます。ゆうさんのうしろに 3人 います。ぜんぶで なん人 ならんでいますか。

ず

しき

こたえ

- (2) おみせに 人が ならんでいます。くみさんの まえに 4人 ならんでいます。くみさんの うしろに 2人 います。ぜんぶで なん人 ならんでいますか。

ず

しき

こたえ

- (3) みんなで よこに ならびました。とおるさんの みぎに 5人 います。とおるさんの ひだりに 2人 います。ぜんぶで なん人 ならんでいますか。

ず

しき

こたえ

- (4) ゆきさんの マンションの 上のかいには、2かいあります。下のかいには 3かい あります。ゆきさんの マンションは なんかいだてでしょうか。

ず

しき

こたえ


ずをつかってかんがえよう4

ねん くみ なまえ()

ずとしきとこたえをかきましょう。

- (1) 人が ならんでいます。ゆうさんのまえに 6人 ならんでいます。ゆうさんのうしろに 3人 います。ぜんぶで なん人 ならんでいますか。

ず しき

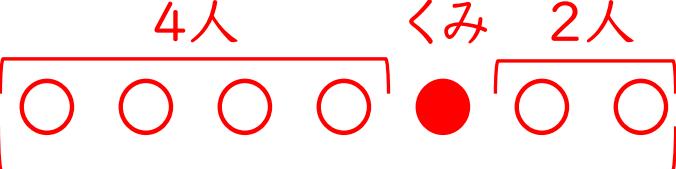


$6 + 1 + 3 = 10$

こたえ 10人

- (2) おみせに 人が ならんでいます。くみさんのまえに 4人 ならんでいます。くみさんのうしろに 2人 います。ぜんぶで なん人 ならんでいますか。

ず しき

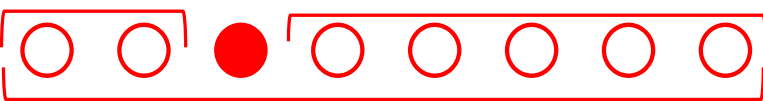


$4 + 1 + 2 = 7$

こたえ 7人

- (3) みんなで よこに ならびました。とおるさんの みぎに 5人 います。とおるさんの ひだりに 2人 います。ぜんぶで なん人 ならんでいますか。

ず しき

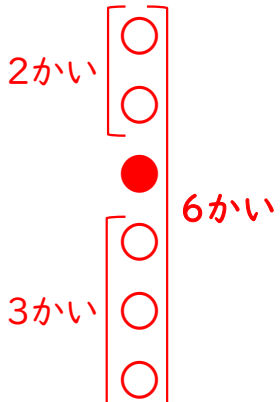


$2 + 1 + 5 = 8$
 $(5 + 1 + 2 = 8)$

こたえ 8人

- (4) ゆきさんの マンションの 上のかいには、2かいあります。下のかいには 3かい あります。ゆきさんの マンションは なんかいだてでしょうか。

ず しき



$2 + 1 + 3 = 6$

こたえ 6かいだて