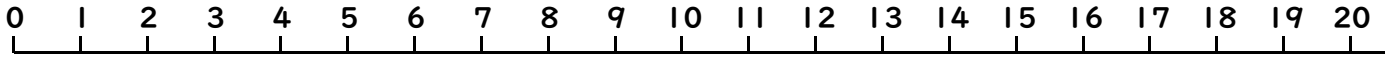


10より おおきい かず7

(かずの せん)

ねん くみ なまえ()



うえにある かずのせんを みて こたえましょう。

●おおきい ほうに ○を つけましょう。

(1)

12

20

(2)

15

5

(3)

6

5

(4)

15

17

(5)

12

9

(6)

12

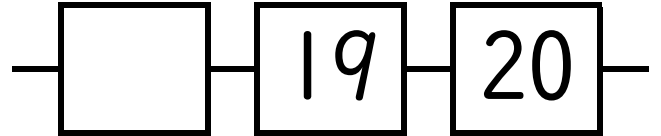
14

●しかくに すうじを かきましょう。

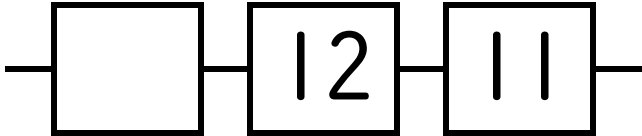
(1)



(2)



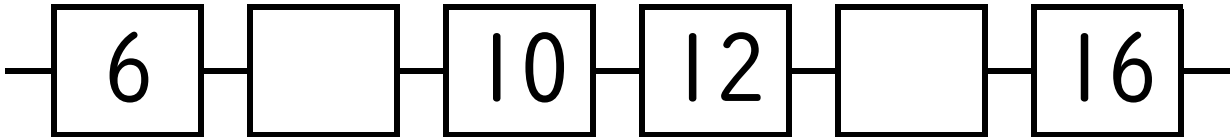
(3)



(4)



(5)



●つぎの かずは いくつですか。

(1) 16より 3 ちいさい かず ()

(2) 15より 4 おおきい かず ()

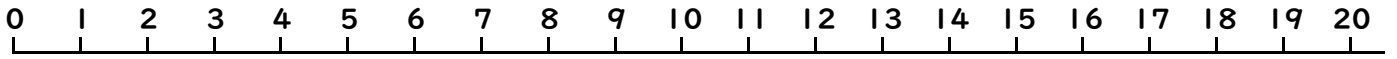
(3) 13より 2 ちいさい かず ()

(4) 11より 3 おおきい かず ()

10より おおきい かず7

(かずのせん)

ねん くみ なまえ()



うえにある かずのせんをみて こたえましょう。

●おおきい ほうに ○を つけましょう。

(1) 12 **20** (2) **15** 5 (3) **6** 5

(4) 15 **17** (5) **12** 9 (6) 12 **14**

●しかくに すうじを かきましょう。

(1) — — — (2) — — —

(3) — — — (4) — — —

(5) — — — — — —

●つぎの かずは いくつですか。

(1) 16より 3 ちいさい かず (**13**)

(2) 15より 4 おおきい かず (**19**)

(3) 13より 2 ちいさい かず (**11**)

(4) 11より 3 おおきい かず (**14**)