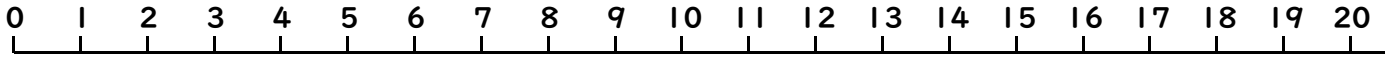


10より おおきい かず21

(かずの せん)

ねん くみ なまえ()



うえにある かずのせんを みて こたえましょう。

●おおきい ほうに ○を つけましょう。

(1)

12

8

(2)

8

5

(3)

18

8

(4)

11

13

(5)

12

19

(6)

12


20

●しかくに すうじを かきましょう。


(1)



(2)



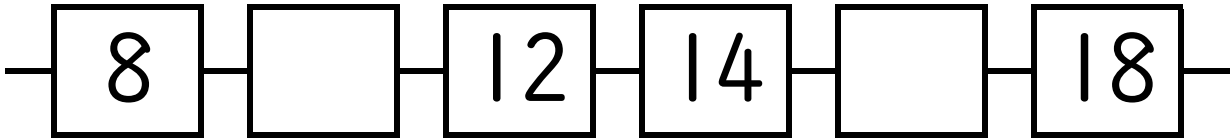
(3)



(4)



(5)



●つぎの かずは いくつですか。

(1) 16より 2 ちいさい かず ()

(2) 12より 7 おおきい かず ()

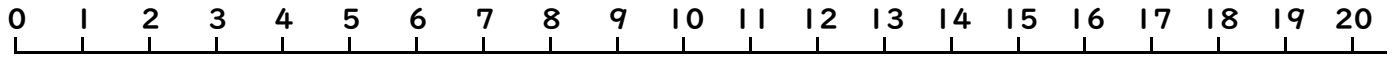
(3) 14より 4 おおきい かず ()

(4) 15より 3 ちいさい かず ()

10より おおきい かず21

(かずのせん)

ねん くみ なまえ()



うえにある かずのせんをみて こたえましょう。

●おおきい ほうに ○を つけましょう。

- (1) 12 8 (2) 8 5 (3) 18 8
(4) 11 13 (5) 12 19 (6) 12 20

●しかくに すうじを かきましょう。

- (1) 17 18 19 (2) 15 16 17
(3) 11 10 9 (4) 13 12 11
(5) 8 10 12 14 16 18

●つぎの かずは いくつですか。

- (1) 16より 2 ちいさい かず (14)
(2) 12より 7 おおきい かず (19)
(3) 14より 4 おおきい かず (18)
(4) 15より 3 ちいさい かず (12)