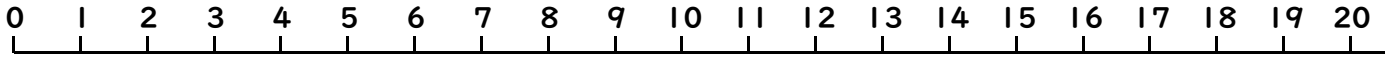


# 10より おおきい かず20

(かずの せん)

ねん くみ なまえ( )



うえにある かずのせんを みて こたえましょう。

●おおきい ほうに ○を つけましょう。

(1)

12

17

(2)

16

19

(3)

7

5

(4)

12

2

(5)

13

7

(6)

12

20

●しかくに すうじを かきましょう。

(1)



(2)



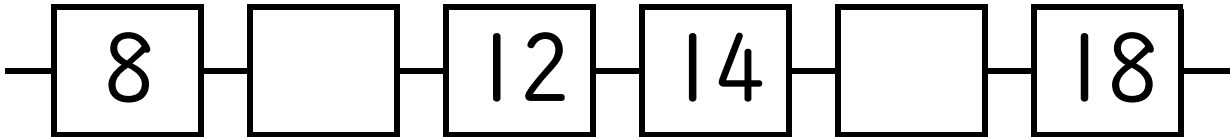
(3)



(4)



(5)



●つぎの かずは いくつですか。

(1) 14より 2 ちいさい かず ( )

(2) 16より 2 ちいさい かず ( )

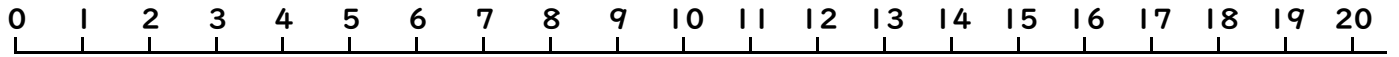
(3) 17より 2 おおきい かず ( )

(4) 13より 2 おおきい かず ( )

# 10より おおきい かず20

(かずのせん)

ねん くみ なまえ( )



うえにある かずのせんをみて こたえましょう。

●おおきい ほうに ○を つけましょう。

(1) 12    (2) 17    (3) 16    (4) 19    (5) 7    (6) 5

(7) 12    (8) 2    (9) 13    (10) 7    (11) 12    (12) 20

●しかくに すうじを かきましょう。

(1) 14    15    16    (2) 17    18    19

(3) 15    14    13    (4) 18    17    16

(5) 8    10    12    14    16    18

●つぎの かずは いくつですか。

- (1) 14より 2 ちいさい かず ( 12 )
- (2) 16より 2 ちいさい かず ( 14 )
- (3) 17より 2 おおきい かず ( 19 )
- (4) 13より 2 おおきい かず ( 15 )