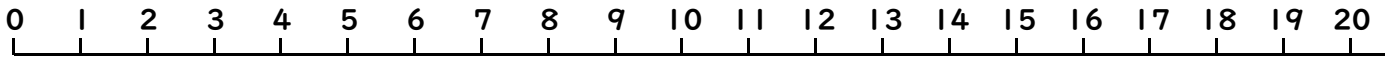


10より おおきい かず 14

(かずの せん)

ねん くみ なまえ()



うえにある かずのせんを みて こたえましょう。

●おおきい ほうに ○を つけましょう。

(1)

8

5

11

7

15

5

(2)

(3)

(4)

19

16

(5)

12

20

(6)

13

11

●しかくに すうじを かきましょう。


(1)



(2)



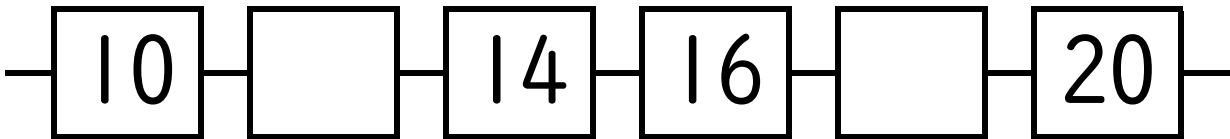
(3)



(4)



(5)



●つぎの かずは いくつですか。

(1) 13より 2 ちいさい かず ()

(2) 14より 2 おおきい かず ()

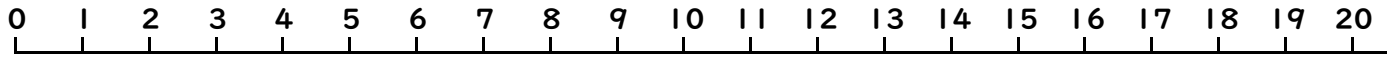
(3) 12より 2 おおきい かず ()

(4) 14より 2 ちいさい かず ()

10より おおきい かず 14

(かずの せん)

ねん くみ なまえ()



うえにある かずのせんをみて きたえましょう。

●おおきい ほうに ○を つけましょう。

(1)

8

5

(2)

11

7

(3)

15

5

(4)

19

16

(5)

12

20

(6)

13

11

●しかくに すうじを かきましょう。

(1)

14 15 16

(2)

13 14 15

(3)

16 15 14

(4)

11 10 9

(5)

10 12 14 16 18 20

●つぎの かずは いくつですか。

(1) 13より 2 ちいさい かず (11)

(2) 14より 2 おおきい かず (16)

(3) 12より 2 おおきい かず (14)

(4) 14より 2 ちいさい かず (12)