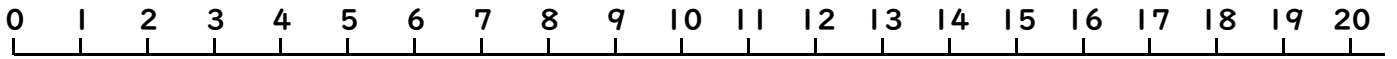


# 10より おおきい かず 10

(かずの せん)

ねん くみ なまえ( )



うえにある かずのせんを みて こたえましょう。

●おおきい ほうに ○を つけましょう。

(1)

18

8

(2)

19

13

(3)

3

5

(4)

12

20

(5)

12

7

(6)

18

15

●しかくに すうじを かきましょう。


(1)



(2)



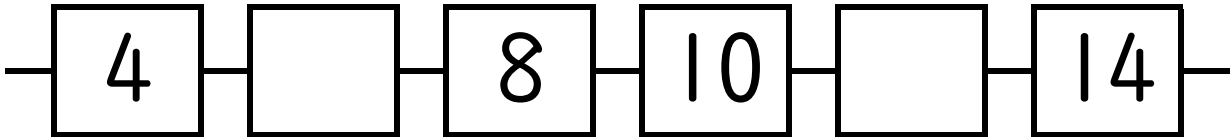
(3)



(4)



(5)



●つぎの かずは いくつですか。

(1) 12より 3 おおきい かず ( )

(2) 18より 6 ちいさい かず ( )

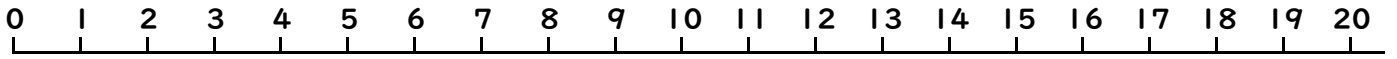
(3) 15より 3 おおきい かず ( )

(4) 15より 3 ちいさい かず ( )

# 10より おおきい かず 10

(かずの せん)

ねん くみ なまえ( )



うえにある かずのせんをみて こたえましょう。

●おおきい ほうに ○を つけましょう。

(1) 18 8 (2) 19 13 (3) 3 5

(4) 12 20 (5) 12 7 (6) 18 15

●しかくに すうじを かきましょう。

(1) 16 17 18 (2) 14 15 16

(3) 19 18 17 (4) 13 12 11

(5) 4 6 8 10 12 14

●つぎの かずは いくつですか。

- (1) 12より 3 おおきい かず ( 15 )
- (2) 18より 6 ちいさい かず ( 12 )
- (3) 15より 3 おおきい かず ( 18 )
- (4) 15より 3 ちいさい かず ( 12 )