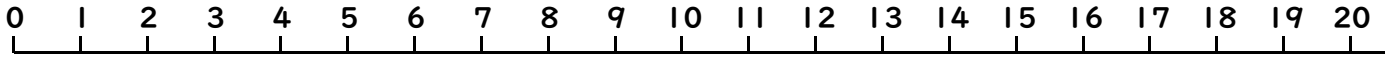


10より おおきい かず

(かずの せん)

ねん くみ なまえ()



うえにある かずのせんを みて こたえましょう。

●おおきい ほうに ○を つけましょう。

(1)

7

(2)

9

(3)

19

9

13

7

(4)

17

(5)

18

(6)

16

14

12

20

●しかくに すうじを かきましょう。

(1)



(2)



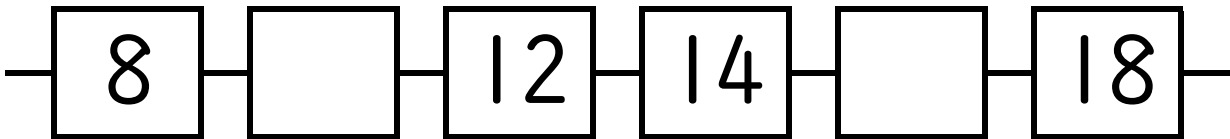
(3)



(4)



(5)



●つぎの かずは いくつですか。

(1) 15より 3 ちいさい かず ()

(2) 13より 2 ちいさい かず ()

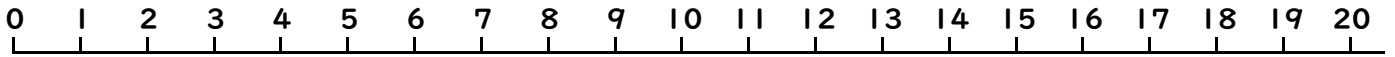
(3) 16より 2 おおきい かず ()

(4) 13より 5 おおきい かず ()

10より おおきい かず

(かずのせん)

ねん くみ なまえ()



うえにある かずのせんをみて ことえましょう。

●おおきい ほうに ○を つけましょう。

(1) 7 **9** (2) **19** 9 (3) **13** 7

(4) 17 **18** (5) **16** 14 (6) 12 **20**

●しかくに すうじを かきましょう。

(1) — — — (2) — — —

(3) — — — (4) — — —

(5) — — — — — —

●つぎの かずは いくつですか。

- (1) 15より 3 ちいさい かず (**12**)
- (2) 13より 2 ちいさい かず (**11**)
- (3) 16より 2 おおきい かず (**18**)
- (4) 13より 5 おおきい かず (**18**)