


# たしざん！

(10までのたし算 絵から式をたてる 増加)

ねん くみ なまえ( )

えをみてしきにかきましょう。

(1)



しき

\_\_\_\_\_


(4)



しき

\_\_\_\_\_

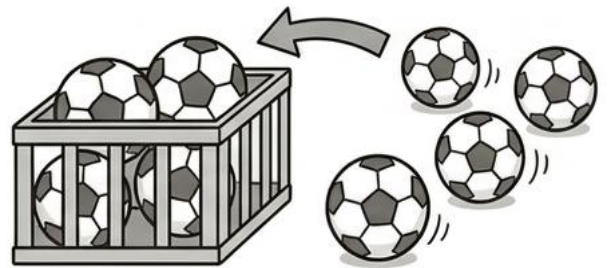
(2)



しき

\_\_\_\_\_

(5)



しき

\_\_\_\_\_


(3)



しき

\_\_\_\_\_

(6)



しき

\_\_\_\_\_


# たしざん1

(10までのたし算 絵から式をたてる 増加)

ねん くみ なまえ( )

えをみてしきにかきましょう。


(1)



しき  $3+3=6$

---


(4)



しき  $2+5=7$

---

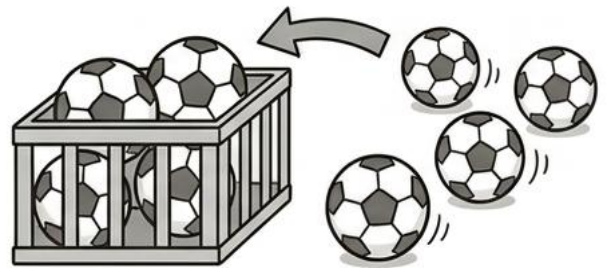
(2)



しき  $5+3=8$

---

(5)



しき  $4+4=8$

---

(3)



しき  $2+4=6$

---

(6)



しき  $5+4=9$

---